

المادة : مبادئ المحاسبة
المرحلة : الاولى
الوقت : ساعتان
التاريخ : ٢٠٢٤ / ١ / ٢١



جامعة البصرة
كلية الإدارة والاقتصاد
قسم العلوم المالية والمصرفية
الدراسات الصباحية والمسائية

أسئلة الامتحان النهائي الكورس الأول / ٢٠٢٣ / ٢٠٢٤ /
ملاحظة // الاجابة عن اربعة أسئلة فقط ((توزع الدرجة بالتساوي))

س ١ / اجب عن كل مما يأتي :

- أ- من اهم المبادئ المحاسبية المتعارف عليها هو مبدأ الاعتراف بالإيراد . ماذا نقصد بهذا المبدئ وضح ذلك بالتفصيل ؟
ب- ماذا يقصد بالدورة المحاسبية وماهي اهم المراحل التي تمر فيها العمليات المالية .
س ٢ / ادناه حساب المصرف في دفتر الاستاذ ل احد المحلات التجارية بعد ترحيل جميع المبالغ اليه .

ح/ المصرف

مدین	دائن
٩,500,000 ح/ راس المال ٢٠٢٣/١/١	2,000,000 ح/ المشتريات ٢٠٢٣/١/٣
5,800,000 ح/ المبيعات ٢٠٢٣/١/٥	3,500,000 ح/ الدائنون ٢٠٢٣/١/٩
2,350,000 ح/ المدينون ٢٠٢٣/١/٧	2,500,000 ح/ المشتريات ٢٠٢٣/١/١٢
350,000 ح/ ايراد عقار ٢٠٢٣/١/١٥	5,500,000 ح/ الاثاث ٢٠٢٣/١/١٧
	500,000 ح/ الايجار ٢٠٢٣/١/٢٠

المطلوب // تسجيل القيود التي ظهرت في دفتر اليومية قبل الترحيل وترصيد حساب المصرف .

س ٣ / اختر الاجابة الصحيحة لكل من العمليات المالية التالية مع بيان سبب اختيارك

- ١- 2022/3/10 اقترض التاجر سمير مبلغ 10,000,000 دينار بمعد فائدة سنوي 4% لمدة ستة اشهر وبتاريخ سداد القرض ثبت القيد في سجلات التاجر وكان الجانب المدين هو
أ- 10,000,000 دينار ح/ القروض ب- 10,200,000 دينار ح/ القروض ج- 9,800,000 ح/ القروض د- لا شيء مما يذكر
- ٢- بلغ رصيد حساب الصندوق في بداية السنة 28,000,000 دينار والمقبوضات النقدية خلال السنة 15,000,000 دينار والمدفوعات النقدية 40% من رصيد حساب المقبوضات فان رصيد حساب الصندوق في نهاية السنة :
أ- 81,300,000 دينار ب- 13,800,000 دينار ج- 31,800,000 دينار د- لا شيء مما يذكر
- ٣- اذا علمت ان مالك الشركة سحب مبلغ 3,000,000 من الصندوق لاستخدامه الشخصي وعلية فان الطرف المدين من القيد المثبت نهاية السنة المالية هو .
أ- المسحوبات الشخصية ب- راس المال ج- الصندوق د- لا شيء مما يذكر
- ٤- قامت الشركة ببيع بضاعة استلمت نصفها نقدا والباقي بالأجل هذه العملية ادت الى :
أ- زيادة في الموجودات ادى الى زيادة في المطلوبات
ب- نقص بالموجودات ادى الى زيادة في المطلوبات
ج- نقص في المطلوبات ادى نقص في راس المال
د- نقص في الموجودات ادى الى زيادة في موجود اخر
- ٥- اذا علمت ان صافي المركز المالي اخر المدة 11,000,000 دينار والاضافات الى راس المال 700,000 دينار والمسحوبات 500,000 دينار و صافي الدخل (300,000) فان صافي المركز المالي اول المدة هو:
- ٦- 2,100,000 دينار ب- 1,500,000 دينار ج- 12,00,000 دينار د- لا شيء مما ذكر

س٤ / توفرت لديك البيانات التالية لمحلات البصرة التجارية

١- 2016/3/1 بدأت المحلات اعمالها بالموجودات والمطلوبات التالية

صندوق 25,000,000 دانون 6,000,000 سيارات 8,000,000 اثاث 6,000,000 قروض طويلة الاجل
2,000,000 مصرف 40% من رصيد الصندوق اوراق دفع 500,000 راس المال ؟؟؟؟

٢- 3/3 اقترضت المحلات من مصرف الرشيد مبلغ 2,000,000 دينار بمعدل فائدة سنوي 9% اودعتها في حسابها الجاري لدى المصرف .

٣- 3/5 باعت الشركة اثاث بمبلغ 4,000,000 دينار استلمت نصفه نقد والباقي بالأجل الى التاجر محمد .

٤- 3/7 قرر صاحب الشركة زيادة راس المال كالاتي 8,000,000 صندوق 3,000,000 اثاث 2,000,000 دانون

٥- 3/9 اشترت المحلات اثاث بمبلغ 2,500,000 دينار بالأجل كما دفعت الشركة مصاريف نقل الاثاث والبالغة 200,000 دينار نقدا .

٦- 3/10 سدد التاجر محمد 60% من الدين المترتب على بشيك .

٧- 3/15 باعت المحلات الاثاث المتبقي نقدا

٨- 3/20 سددت الشركة كامل الدين المترتب عليها نقدا .

٩- 11/3 سددت المحلات القرض مع الفوائد بشيك .

المطلوب // ١- تسجيل قيود اليومية الازمة

٢- ترحيل وترصيد كل من حـ/ الصندوق و حـ/ الاثاث

س٥ / اجب عن كل مما يلي

أ -- فيما يلي معادلة الميزانية في احدى الشركات التجارية في ٢٠٢٢/١٢/٣١

	صندوق 9,000,000
راس المال 17,000,000	اثاث 6,000,000
دانون 5,000,000	مصرف 8,000,000
قروض 3,000,000	مدينون 2,000,000
25,000,000	25,000,000

على فرض تمت العمليات المالية التالية .

١- اشترت الشركة اثاث بمبلغ 3,000,000 دينار بشيك .

٢- قرر صاحب الشركة زياده في راس المال بمبلغ 6,000,000 دينار اودعه 30% في المصرف والباقي في الصندوق .

٣- باعت الشركة نصف الاثاث بالأجل لشركة الكوثر التجارية .

٤- قامت الشركة بسداد مبلغ 2,000,000 دينار نقدا من الدين المترتب بذمتها .

٥- سحب صاحب الشركة بمبلغ 2,500,000 دينار نقدا لأغراضه الخاصة .

المطلوب // اعداد ميزانية عمومية بعد اجراء العمليات اعلاه

ب-- قدمت اليك بيانات المركز المالي لمحلات الكوثر التجارية والتي تمسك حساباتها على اساس القيد المفرد .

المركز المالي في ٢٠١٤/١/١	٢٠١٤/١٢/٣١
الموجودات 75,000,000	95,000,000
المطلوبات 45,000,000	60,000,000

وبلغت الزيادة في راس المال 5,000,000 دينار والمسحوبات الشخصية 4,000,000 دينار .

المطلوب // استخراج صافي الدخل باستخدام طريقة القيد المفرد

مع تمنياتنا بالنجاح

رئيس القسم
أ. د. منتظر فاضل سعد

مدرس المادة
م. قاسم محمد دهش



جامعة البصرة

كلية الادارة والاقتصاد

قسم العلوم المالية والمصرفية

اسئلة الامتحان النهائي الكورس الاول للعام الدراسي 2023-2024

الدراسات الصباحية والمسائية للدرجة الاولى



المادة : مبادئ اقتصاد 1 المرحلة : الاولى التاريخ = 2024 \ 2 \ 3 الزمن : ساعتين

ملاحظة : الاجابة عن اربعة اسئلة فقط ، (اكتب رقمين بعد التقارزة) ، لكل سؤال 12.5

س1) أ- ارسم فقط التغير في العرض والتغير في الكمية المعروضة مع ذكر اسباب التغير؟
ب- عدد العوامل المؤثرة على مرونة الطلب مع شرح واحدة معززا اجابتك بالرسم .

س2) احسب المرونة اذا علمت بان الدخل ارتفع من 250 دينار الى 500 دينار ، كما ارتفعت الكمية المطلوبة من 20 كيلو الى 25 كيلو . مع توضيح نوع المرونة ونوع السلعة ؟

س3) من بيانات المنفعة الكلية للسلعة X احسب المنفعة الحدية ، ومن ثم ارسم المنفعة الكلية والحدية محددًا نقطة الاشباع .

الكمية	0	1	2	3	4	5	6	7	8	9
المنفعة الكلية	0	7	13	18	22	25	27	28	28	27

س4) لديك البيانات التالية عن المنفعة الحدية للسلعتين X, Y والكميات المستهلكة علما ان سعر السلعة $1=X$ دينار و $1=Y$ دينار ودخل المستهلك 8 دينار فقط

الكمية	1	2	3	4	5	6
المنفعة الحدية X	11	10	9	8	7	6
المنفعة الحدية Y	19	17	15	13	12	10

المطلوب: حدد نقطة التوازن من خلال الكميات التي يستهلكها هذا المستهلك ، مؤكدا اجابتك من خلال شروط التوازن .

س5) عدد خصائص منحنيات السواء مع شرح واحدة معززا اجابتك بالرسم البياني مع تمنياتنا بالنجاح

الاستاذ الدكتور

الاستاذ الدكتور

المدرس الدكتور

الاستاذة الدكتورة

الاستاذ الدكتور

عبد الحسين توفيق

منتظر فاضل البطاط

هادي عبد الواحد

ندوه هلال جودة

احمد جاسم محمد

العميد

رئيس القسم

مدرس المادة

مدرس المادة

مدرس المادة



ملاحظة: أجب عن خمسة أسئلة فقط لكل سؤال (١٠ درجات)

س١/ ما تعريف الخبر؟ ثم اذكر ثلاث من صوره، مع الأمثلة.

س٢/ أعرب ما تحته خط إعرابًا مفصلاً.

١. قال تعالى: ﴿كَانَ النَّاسُ أُمَّةً وَاحِدَةً﴾.

٢. قال تعالى: ﴿وَمَا يُدْرِيكَ لَعَلَّ السَّاعَةَ قَرِيبٌ﴾.

س٣/ اختر الإجابة الصحيحة لما يأتي:

١. ﴿إِنَّ الْحَسَنَاتِ يُذْهِبْنَ السَّيِّئَاتِ﴾، الْحَسَنَاتِ: اسم إن منصوب بالكسرة بدل الفتحة لأنه

أ. ممنوع من الصرف ب. جمع مؤنث سالم ج. جمع مذكر سالم

٢. من علامات الاسم قبوله

أ. نون النسوة ب. التنوين ج. لم الجازمة

٣. تنصب الأسماء الخمسة وعلامة نصبها

أ. الألف ب. الواو ج. الياء

٤. من علامات الفعل الماضي قبوله

أ. تاء الفاعل ب. نون التوكيد ج. سوف

٥. رأيتُ القاضي، القاضي: مفعول به منصوب

أ. بالكسرة الظاهرة ب. بالضمة الظاهرة ج. بالفتحة الظاهرة

س٤/ ضع (صح) أو (خطأ) أمام العبارات التالية، مع تصحيح الخطأ إن وجد.

١. إنه من أكثر الموظفين حرصًا ..

٢. الموضوع الأنف الذكر ..

٣. إلى كافة الدوائر والهيئات ..


٤. أهم الموضوعات الرئيسية ..

٥. وأطلع على المعاملات غير المنجزة ..


س٥/ ما مناسبة قصيدة الفرزدق؟ أوجز ذلك، ثم اكتب خمسة أبيات منها.

س٦/ بِمَ امتاز شعر زهير بن أبي سلمى؟ وبماذا سُميت قصائده؟ ولم؟ استشهد بخمسة أبيات من معلقته.

إجابة موفقة أرجوها لكم


رئيس القسم

أ. د. منتظر فاضل البطاط


مدرس المادة

م. د. عدي فاضل عباس



المرحلة : الاولى
المادة : ادارة الاعمال

الزمن : ساعتين

التاريخ : 2024 / ٧ / ٢٠

الامتحان النهائي الكورس الاول / الدور الثاني

جامعة البصرة

كلية الادارة والاقتصاد

قسم العلوم المالية والمصرفية

الدراسات الصباحية والمسائية

ملاحظة : الاجابة عن خمسة اسئلة فقط (توزع الدرجات بالتساوي)

س1: اجب عما يأتي

- أ. بصفتك احد المتخصصين في ادارة الاعمال قدم ورقة تستعرض فيها العلاقة بين المنظمة وبيئتها بالتفصيل ؟ معزراً اجابتك بالرسم ؟
- ب. عدد فقط خصائص المجتمعات المتطورة ائارياً ؟

س2: اجب عما يأتي

1. ما لمقصود بثقافة المنظمة ؟ وماهي الادوار التي تمارسها الثقافة المنظمة في تعزيز او تدهور الاداء المنظمي, وضح ذلك بالتفصيل معزراً اجابتك بالرسم؟
2. عدد فقط مبادئ فايول الاربعة عشر ؟

س3: اجب عن الفرعين التاليين

- أ. تعد الادارة العلمية واحدة من المدارس الكلاسيكية التقليدية تكلم عن هذه المدرسة بالتفصيل ؟
- ب. وضح من خلال الرسم فقط مستويات الثقافة التنظيمية؟

س4: اجب عن الاتي

أ. اسأ الفراغات التالية

1. يقصد بمصطلح التداؤب هو
2. أن معيار الجودة العالمي الذي أصبح أساساً في تصنيف منظمات الأعمال للتنافس في الأسواق العالمية هو

3. يكرس المدراء في الإدارة العليا أغلب وقتهم لوظيفة.....
4. تمثل دراسة هوثورن مهمة لكونها أدركت أهمية تأثير عاملين أساسيين على الإنتاجية هما..... و.....
5. تمثل الأعراف والعادات والتقاليد والخصائص السكانية للمجتمع ب.....
- ب. وضع من خلال الرسم فقط (هرم ماسلو للحاجات)

س5 : وضع من خلال الرسم فقط
1. وظائف الادارة (وظائف الادارة) 2. بيئة المنظمة

س6: اجب عماياتي

- أ. وضع من خلال الرسم المنظمة كنظام مفتوح ؟
- ب. اختر الاجابة الصحيحة
1. إن البحث الدائم عن أساليب جديدة ترتقي بمستوى الأداء الحالي يسمى
تأكيد الجودة أسلوب هونداي التحسين المستمر الإيحاء الواسع
2. تمثل القدرة على التعامل مع الآخرين والتعاون معهم يحتاج إلى تطوير مهارات
إدراكية إبداعية فنية إنسانية إشرافيه
3. المدرسة التي تتعلق بضرورة الاهتمام بالفرد العامل والمجموعات هي
المدرسة السلوكية المدرسة التقليدية المدرسة الكمية المدرسة الحديثة
4. عندما يكثر أحد المدراء من الإشارة إلى الرواد الأوائل وقصصهم وتاريخهم عند توجيه
مرؤوسيه فهو
مديرني ثقافة تعددية مدير مهتم بالمنافسة مدير رمزي مدير بيروقراطي
5. الصراع بين الشخصية البالغة الناضجة والمنظمة غير المرنة الكلاسيكية كان جوهر
اهتمام الباحث
شستر برنارد هنري فايول كريس ارجرس ماري فولت

أ.د. منتظر فاضل سعد

مدرسات المادة

رئيس القسم

م.م. هبة ياسين

م.م. دعاء شهيد

م. ميادة كاظم نتوش



جمهورية العراق
وزارة التعليم العالي والبحث العلمي
جامعة البصرة



كلية الإدارة والاقتصاد / قسم العلوم المالية والمصرفية

أسئلة نهاية السنة للدراستين الصباحية والمسائية الدور (المرحلة) - للعام الدراسي 2023 - 2024
المرحلة الاولى .. المادة : مبادئ احصاء 1 -- زمن الامتحان : ساعتين -- التاريخ : ١٠ / ٢ / 2024

ملاحظة الاجابة عن اربعة اسئلة فقط لكل سؤال (12.5) درجة

س1 / البيانات التالية تمثل حجم المبيعات اليومية لسلعة معينة في احدى المحلات التجارية/بالآلاف الدنانير خلال شهر شباط لعام 2023 ولغرض الوقوف بشكل دقيق على حجم المبيعات، كون جدول توزيع تكراري مستخدماً طريقة سترجس لتحديد عدد الفئات علماً ان قيمة $\log(30) = 1.477$:

70	12	25	55	60
23	7	30	40	15
10	35	77	56	78
80	36	28	47	90
33	15	41	53	65
32	47	73	85	12

س2/ اجب بصح او خطأ وصحح الخطأ ان وجد لكل مما يأتي :

- 1- يعتبر اسلوب المقابلة الشخصية من مصادر جمع البيانات التاريخية .
- 2- اذا كانت حدود الفئة في جدول التوزيع التكراري (25 - 15) فان الحد الحقيقي الادنى لهذه الفئة هو (15.5).
- 3- من مميزات الجداول البسيطة ان تكون عدد الفئات اقل من طول الفئة ويكون عدد الفئات فيها محصور بين (5-20).
- 4- المتغيرات الوصفية هي المتغيرات التي تكون مفرداتها قابلة للقياس بالأرقام .
- 5- تعتبر العينة الحصصية من العينات العشوائية، وتمتاز بتعدد مراحل جمع مفرداتها.
- 6- اذا كانت حدود فئة معينة في جدول توزيع تكراري (26-22) فان مركز الفئة لها يساوي (24).

س3 / يريد مدير مدرسة أن يعرف رأي طلبة مدرسته في مستوى تدريس أحد المعلمين . إذا كان عدد طلبة المدرس (850) طالب، وحجم العينة المطلوبة يساوي (50) للحصول على العينة الاسلوبية المنتظمة فلو تم اختيار الطالب الاو وليكن $K_1=15$ ما هو تسلسل اول اربع طلبة وتسلسل الطالب الاخير ضمن هذه العينة .

س4/ مجتمع مقسم إلى (3) طبقات تم سحب عينة عشوائية بحجم (500) وتم الحصول على البيانات التالية :

حجم الطبقة N_h	1500	B	Y
الجزء المختار n_h	a	100	y

حدد قيم حجوم الطبقات والأجزاء المختارة المفقودة في الجدول اذا علمت ان حجم المجتمع $N=8000$.


س5/ اذا كان لديك جدول التوزيع التكراري التالي

الفئات	f_i
5 - 9	6
10 - 14	5
15 - 19	5
20 - 24	2
25 - 29	8
30 - 34	4

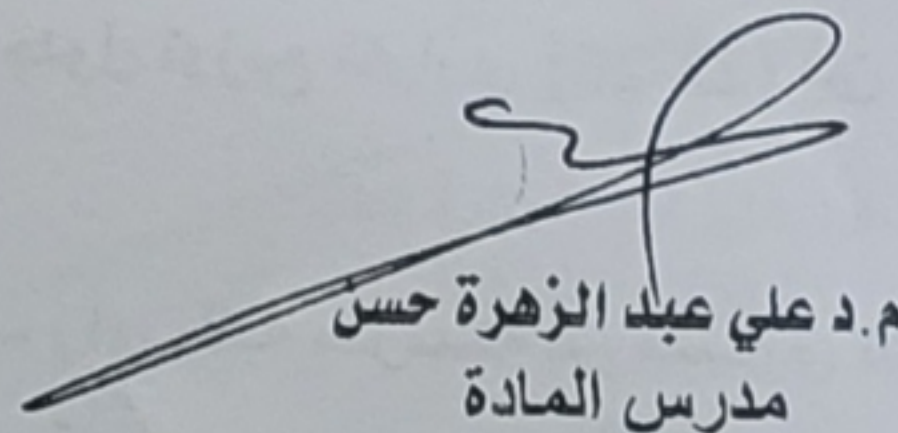
المطلوب : احسب ما يأتي :

- 1- مراكز الفئات.
- 2- التكرار النسبي .
- 3- التكرار المتجمع الصاعد.

مع تمنياتنا للجميع بالنجاح



أ.د. منتظر فاضل سعد
رئيس القسم



م.د. علي عبد الزهرة حسن
مدرس المادة



م. احمد هشام محمد
مدرس المادة



ملاحظة : الاجابة عن خمسة اسئلة فقط وتوزع الدرجات بالتساوي

- السؤال الأول : اجب بكلمة صح او خطأ مع تصحيح الخطأ أينما وجد :
- 1- وحدات التخزين اللحظية يشترط في تشغيلها وجود USB Port في الحاسوب.
 - 2- يمكن قياس سرعة المعالج بعدد التعليمات التي ينفذها بوحدة القياس GB.
 - 3- يعتبر المودم اهم مكون برمجي متمثل بوحدات اخراج وإدخال معاً في ذات الوقت.
 - 4- CTRL+X هو مختصر من خلاله يمكن تنفيذ الامر نسخ للملفات او النصوص.
 - 5- MC تعتبر ذاكرة غير متطايرة لا تفقد محتواها عند انقطاع التيار الكهربائي بصورة مفاجئة.

السؤال الثاني : اختر رمز الإجابة الصحيحة لكل مما يأتي :

- 1- نظام التشغيل الذي يعتمد على الواجهات النصية فقط ويستقبل فقط الأحرف والرموز من المستخدم لا غير هو :
أ- Windows
ب- Mac OS
ج - لا شيء مما ذكر (اذكره)
- 2- يعد من برامج التطبيقات ما عدا :
أ- برامج معالجة النصوص
ب- برامج الجداول الحسابية
ج - برامج النسخ الاحتياطي
- 3- ان دخول البيانات من وحدات التخزين الثانوي الى الذاكرة الرئيسية هي احد مهام :
أ- CU
ب- ALU
ج - لا شيء مما ذكر
- 4- يعتبر جهاز عرض البيانات من وحدات :
أ- وحدات الادخال
ب- وحدات الاخراج
ج - كلا الخيارين
- 5- الذاكرة التي لا تفقد محتواها عند فصل التيار الكهربائي ::
أ- ROM
ب- RAM
ج- لا شيء مما ذكر (اذكره)

السؤال الثالث : وضح باختصار كل من المفاهيم التالية :
1. CTRL +C 2. المجلد 3. Mac OS 4. OCR 5. لوحة اللمس

السؤال الرابع : اجب عن ما يأتي :

- 1- ما هو نظام التشغيل ؟ وما هي اهم وظائفه ؟
- 2- ما المقصود بعملية نسخ الملف أو المجلد؟ مع ذكر طريقتين بالتفصيل لتنفيذ امر النسخ ؟

السؤال الخامس : اجب عن الاتي :

- 1- ما هي الوحدات التي تقوم بنقل البيانات المُعالجه من ذاكرة الحاسوب الى الوسط الخارجي ؟ وما هي امثلتها وضحها بالتفصيل ؟
- 2- ما هي أسباب اختلاف أنظمة التشغيل ؟

السؤال السادس : ما هي الذاكرة الرئيسية ؟ وما هي أنواعها وضح ذلك بشكل تفصيلي ؟

(مع تمنياتنا لكم بالنجاح)

أ.د. منتظر فاضل سعد
رئيس القسم

م.م. احمد سامي إبراهيم
مدرس المادة

م.م. عبدالله محمد راضي
مدرس المادة



ملاحظة: الإجابة عن خمسة أسئلة فقط :

- س ١ / اختر الأجوبة الصحيحة من بين الأقواس :
- ١- مشاركة المواطن في النشاط السياسي عن طريق الانتخابات والترشيح يسمى :
(حق سياسي / حق اجتماعي / حق وطني) .
 - ٢- حقوق مستمدة من تكريم الله له وتفضيله على سائر المخلوقات والتي تعني :
(حقوق طبيعية / حقوق لصيقة / حقوق الانسان) .
 - ٣- ظهرت الفلسفة الرواقية في الحضارة :
(الأخرقية / الإسلامية / اليونانية) .
 - ٤- هي مجموعة من الحقوق الطبيعية التي يمتلكها الانسان واللصيقة بطبيعتها عرفها :
(القانون الطبيعي / محمد مجذوب / علي الوردي)
 - ٥- حق يخول كل فرد باختيار من يمثله سياسياً ضمن السلطة التشريعية هي :
(حق الانتخاب / حق الحياة / حق الجنسية) .

س ٢ / أجب بعلامة (صح) أو (خطأ) ثم صحح الخطأ أن وجد :

- ١- كفل الاسلام الحقوق الضامنة لحفظ الانسان أهمها حرية الحياة .
- ٢- حقوق الانسان غير شامله وتقبل الالغاء والتعديل .
- ٣- تتألف شريعة حمورابي من (٢٨٢) مادة .
- ٤- في المجتمع الروماني انعدمت المساواة بين طبقة الاشراف والعامه امام القانون .
- ٥- دعا اخناتون إلى التوحيد والسلام والتسامح والرحمة وتحقيق العلم للجميع .

س ٣ / تشمل الحقوق والحريات الشخصية أنواعاً عدة ترتبط ارتباطاً وثيقاً بحياة الإنسان وديمومتها عدد هذه الحقوق ثم اشرح اثنان منها .

س ٤ / برزت عدة حقوق سياسية منحها الدول لمواطنيها ويكفلها الدستور أشرحها ثم بين ماهي خصائص هذه الحقوق السياسية .

س ٥ / هنالك العديد من الحضارات التي اعطت لحقوق الانسان مفاهيم عديدة ومن أبرزها الحضارتين اليونانية والرومانية من جهة والحضارة المصرية القديمة وحضارة العراق القديم من جهة أخرى اعمل مقارنة فيما بينهم مع الشرح .

س ٦ / من خلال دراستك للحقوق برزت العديد من المميزات والخصائص التي تخص حقوق الانسان التي أقرها الدين الإسلامي بينها مع الشرح .

معتمداً بالنجاح

أ.د. منتظر فاضل سعد
رئيس القسم

م.م. مروة محسن
مدرس المادة

م.م. اسراء خيرى عبد
مدرس المادة

المادة: المحاسبة المتوسطة
الدراسات الصباحية والمسائية
التاريخ: 26 / 12 / 2023
الوقت: ساعتان



أسئلة الامتحان النهائي
للفصل الدراسي الاول 2023-2024
الدور (الاول)



جامعة البصرة
كلية الادارة والاقتصاد
قسم العلوم المالية
والمصرفية

ملاحظة: الإجابة عن أربعة أسئلة وتوزع الدرجة بالتساوي، ويمكن للطالب الإجابة بالقلم الصاغ

س1// اختر الإجابة الصحيحة من بين كل مما يأتي:

- 1- المصروف المدفوع مقدما هو احد الاتي:
 - أ- الذي استحق على الشركة ولم يدفع.
 - ب- الذي دفع من الشركة خلال السنة الحالية.
 - ت- الذي دفع فعلا من قبل الشركة لسنة تالية.
 - ث- لا شي مما سبق.
- 2- الايراد المستلم مقدما هو احد الاتي:
 - أ- الذي استلم فعلا خلال السنة السابقة.
 - ب- الذي استلم فعلا نهاية السنة الحالية.
 - ت- الذي استلم فعلا عن السنة القادمة.
 - ث- لا شي مما سبق.
- 3- الشيكات المعلقة والتي لم تقدم للصرف تمثل الاتي:
 - أ- شيكات محررة للدائنين.
 - ب- شيكات مستلمة من المدينين.
 - ت- لا شي مما سبق.
- 4- رصيد ايراد العقار 2400 دينار والعقد يبدأ اعتبارا من 5/1 والايراد الشهري 190 دينار، فالجانب الدائن من قيد التسوية يكون.
 - أ- 120 دينار ايراد عقار.
 - ب- 880 دينار ايراد عقار مستلم مقدما.
 - ت- 120 دينار ايراد عقار مستلم مقدما.
 - ث- لا شي مما سبق.
- 5- احد التي لا يعد من المبادئ المحاسبية.
 - أ- الكلفة التاريخية.
 - ب- تحقق الايراد.
 - ت- حقوق الملكية.
 - ث- مقابلة الايرادات.

س2// في 2020/12/31 اظهر ميزان المراجعة قبل التسويات مجموع المصاريف المدفوعة مقدما خلال السنة

مبلغا قدره 8,000,000 دينار، وكانت هذه المصاريف موزعة كالتالي:

- 1- 25% مصاريف اعلان مدفوعة في 2020/1/1 ولمدة 16 شهرا سددت بصك.
 - 2- 35% ايجار مدفوعة في 2020/10/1 ولمدة سنة كاملة سدد نقدا.
 - 3- ما تبقى من المبلغ يمثل مصاريف تامين ضد الحريق لمدة سنة مدفوعة بتاريخ 2020/10/1 سدد بصك.
- المطلوب:

- 1- القيود اليومية التي أدت الى ظهور الأرصدة أعلاه.
- 2- اجراء قيود التسوية.
- 3- تصوير حساب الإعلان والاعلان المدفوع مقدما.

س3// فيما يلي البيانات التي امكن الحصول عليها من سجلات شركة البصرة عند تسوية حساب البنك في
2020/1/31:

رصيد حساب البنك في سجلات الشركة 3,563,000 دينار، ورصيد حساب البنك على وفق الكشف الوارد من
البنك 5,250,000 دينار فاذا علمت انه قد جرت العمليات الاتية خلال الشهر.

- 1- صكوك معلقة بمبلغ 1,250,000 دينار.
- 2- حصل البنك ورقة قبض لصالح الشركة بمبلغ 2,000,000 دينار ولم يصل بها اشعار دائن الى الشركة.
- 3- حصل البنك فوائد سندات لصالح الشركة بمبلغ 500,000 دينار ولم يصل بها اشعار دائن الى الشركة.
- 4- اكتشف محاسب الشركة انه اخطأ في تسجيل مبالغ الشيكات المحررة للدائنين وكالتالي:
أ- الشيك المرقم 100 سجل خطأ بمبلغ 52,000 دينار والصحيح هو 25,000 دينار للعميل جميل.
ب- الشيك المرقم 110 سجل خطأ بمبلغ 560,000 والصحيح هو 650,000 دينار للعميل خالد.
- 5- شيك معاد للعميل خليل لعدم كفاية الرصيد 750,000 دينار.
- 6- سدد البنك ورقة دفع مستحقة على الشركة بمبلغ 1,200,000 دينار.
- 7- هناك مصارف وعمولات بمبلغ 50,000 دينار استقطعتها البنك من حاب الشركة.
المطلوب: اعداد مذكرة تسوية كشف البنك.

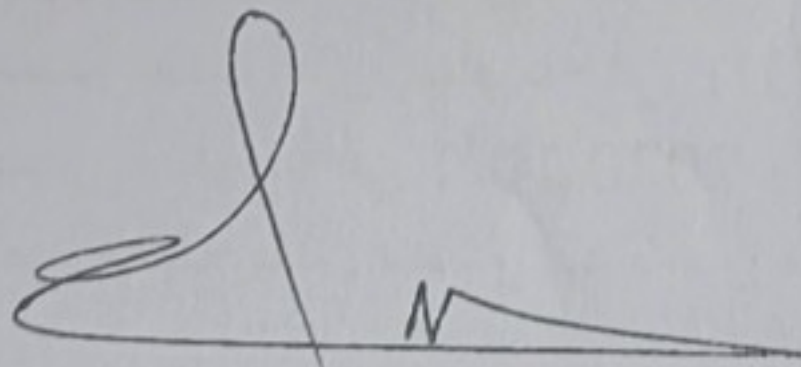
س4// بتاريخ 2020/5/25 ولدى جرد النقدية في الصندوق في شركة الفيحاء اظهر الجرد ان النقد الفعلي
الموجود في الصندوق هو 600,000 دينار، وتبين ان هناك عجز مقداره 100,000 دينار، وبعد مراجعة دفتر
اليومية والمستندات تبين ان هناك فاتورة مبيعات سجلت سهوا مرتين بمبلغ 30,000 دينار، اما ما تبقى من
المبلغ فهو عبارة عن فاتورة مشتريات سهى المحاسب عن تسجيلها أيضا.
المطلوب: اجراء قيود اليومية اللازمة لمعالجة الحالة أعلاه وتصوير حساب الصندوق.

س5// فيما يلي الحسابات المستخرجة من سجلات شركة الإخلاص وذلك قبل وبعد اجراء التسويات في
2020/12/31.


اسم الحساب	رصيد بعد التسوية	رصيد قبل التسوية
رواتب واجور	240,000	225,000
تامين مدفوع مقدما	122,000	186,000
ايراد عقار	300,000	325,000
مصاريف كهرباء	450,000	400,000

المطلوب: تسجيل قيود التسوية في 12/31

مع تمنياتنا لكم بالنجاح



أ.د. منتظر فاضل سعد
رئيس القسم



م. حسام احمد علي
م.م سلام صدام مهر
مدرسا المادة



Course name: English Second Stag M&Evinging Study , Date: 28/12/ 2023, Total Mark: 50 Time: 2 H

Name -----no: -----

Answer just four questions

Q1 : Read the text and then answer the questions (12.5 mark)

Tokyo has a population of 35 million people. It is the largest city in the world. It is also one of the most exciting. Everything moves fast here. It has one of the biggest and busiest railway systems in the world. Every day, 11 million commuters use it to get to and from work. People earn the highest salaries, and they spend the most money. They wear the latest fashions, and have the most up-to-date phones. It is the world's most expensive city. Tokyo was originally a small fishing village called Edo. The name changed in 1868 when the Emperor moved there.

The architecture is very modern. There are not many old buildings because of the 1923 earthquake and the Second World War. But traditional japan is always near, with many Shinto shrines and public baths around the city Tokyo is on the east coast of japan. The summers are hot and humid. The most beautiful time of year is spring, when the famous cherry blossom is on the trees. The city is huge, but it is one of the safest cities in the world. japan is mysterious. It is difficult for foreigners to understand.

a- Answer in one word .

- 1- The article talks about a country called -----.
- 2- The name of the city was changed to Tokyo after its previous name-----
- 3- The population of Tokyo is-----

b- Chose the wright answer :

- 1- Economic characteristics of the population in Tokyo
(a- Highest income and highest consumption b- Higher income and lower consumption c- Lowest income and highest consumption.
- 2- Buildings in Tokyo by age (a- very old b- Modern c- A little old)
- 3- One of the worst things in Japan (a- Wars and earthquakes b- It's a poor country c- There is no industry)

Q2 / Determine if the statement is true or false Then correct the false : (12.5 mark)

- 1- The Iraqi team won the final match. We were happy .
- 2- Adjectives describe nouns while adverbs describe pronouns.
- 3- Put potatoes in the list.
- 4- He published his theory of relativity in 1905 .
- 5- I have nothing to do and nowhere to go. I am so angry .
- 6- (can 5- a little bit 2 -speak 1 - She 4 - Spanish 3) the correct range is 4-5-1-3-2 .

Q3 Translate the text into Arabic (12.5 mark)

- a- When he got to Dover, he saw a French journalist waving a flag. He cut the engine at 60 feet and crashed into a field. The news quickly went round the world, and Mr Bleriot's flight was celebrated in London and Paris. He won a prize of f 1,000.
- b- An American businessman was on a fishing trip in a village in southern Mexico. He met a young fisherman and his small boat.
- c- Oprah was born on January 29, 1954, in Kosciusko, Mississippi. Her parents were very poor. Her father, Vernon, worked in a coal mine and her mother, Vernita, cleaned houses. They couldn't look after Oprah, so she lived with her grandmother, Hattie Mae. Oprah was clever. She could read before she was three. When she was 17, she received a scholarship to Tennessee State University, where she studied drama. She also started reading the news at the local radio station.


Q4 : Choose the correct answer : (12.5 mark)

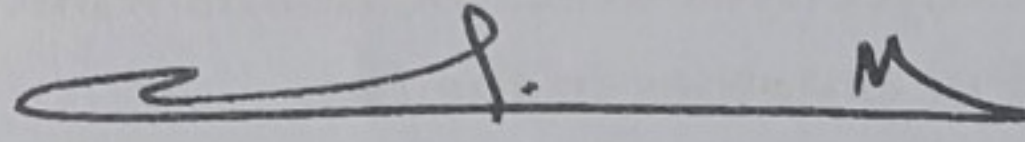
- 1- How many (a- egg's b- butter c- milk) do you need?
- 2 -We do not have much (a- biscuits b-cheese c- potatoes) left.
- 3 -I'm hungry. I'd like (a- sandwich b- bread c- apple) .
- 4 -I'd like (a- a b- some c- any) fruit, please.
- 5- Would you like some(a- tea b- sandwich c- orange)?
- 6 -How many (a- money b- cousins c- family) do you have?
- 7 -We have (a- no b- much c-many) homework today.
- 8- Yesterday was more hot (a- that b- than c- these) today.

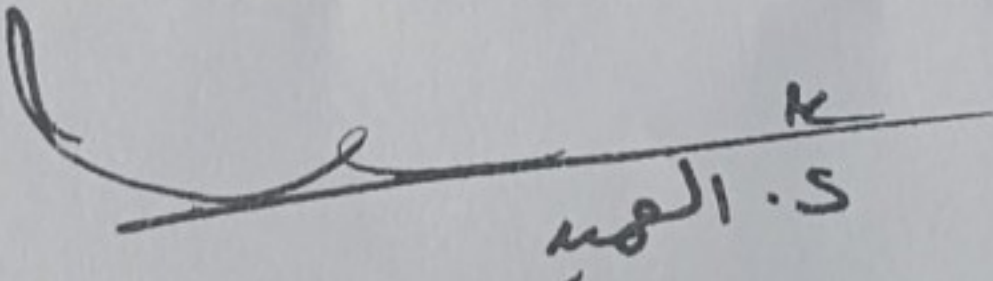
Q5: Choose the correct answer among the options (12.5 mark)

- 1- when did Henry Ford sell the first Model-T motor car.
a- 1908 b- 1903 c- 1910
- 2- nineteen oh five
a- 1950 b- 1905 c- 1900
- 3- The marathon runners were very ---
a- Tired b- tiring c- very tire .
- 4- The news is very -----
a- Worried b- worrying c- worry.
- 5- ----- is the past of do and does .
a- Did b- could c- was
- 6- We lost the match because we played -----
a- Carefully b- badly c- hard

Good Luck


Assist Prof. Dr. Radhi Obaid
Course instructor


Prof. Dr. Muntadar saad Albattat
Head, Department of Finance


S. Al-Mohammed

التاريخ : 31 / ٥ / 2023
المادة : القانون التجاري
الوقت : ساعتين



جامعة البصرة
كلية الإدارة والاقتصاد
قسم العلوم المالية والمصرفية



امتحان الكورس الأول
المرحلة الثانية - الدور
2024 - 2023

المورد

ملاحظة: الاجابة عن خمسة اسئلة فقط وتتوزع الدرجات بالتساوي على جميع الاسئلة.

س1: عرف خمسة مما يأتي

الافلاس , السهم , الشخصية المعنوية , شركة التضامن , شركة الاستثمار المالي , العمل التجاري.

س2: اجب عن اثنين مما يأتي

أ- اذكر الاثار القانونية للتسجيل في السجل التجاري.

ب- عدد حالات انقضاء الشركة بموجب قانون الشركات العراقي النافذ.

ت- في حال عدم لم يصل الاككتاب الى نسبة 75% من رأس المال الاسمي للشركة ما هو الاجراء المتبع؟

س3: ميز الاعمال التجارية من الاعمال المدنية مما يأتي مع ذكر السبب (لخمس فقط).

أ- بيع الفلاح لمحاصيل ارضه.

ب- استئجار سيارة من اجل تأجيرها مرة اخرى.

ج- شراء التاجر لساعة ذهبية من اجل اهداءها لصديقه التاجر.

د- العمليات المصرفية.

هـ- بيع صاحب الارض لمحصول ارضه من الزيتون وتحويل القسم الاخر منه الى زيت زيتون وبيعه ايضا.

و- شراء التاجر اثاث لمحله التجاري.

س4: عدد مع الشرح خصائص الاسهم.

س5: ابحث في (الاحتراف) كشرط من شروط اكتساب الشخص لصفة التاجر.

س6: عرف الاككتاب ثم اذكر انواعه, وفي اي الشركات يطبق كلا نوع منه, متى يعتبر الاككتاب ناجح, وفي حال فشل الاككتاب ما

هي الاجراءات المتبعة مع الشروط, وهل يحق للمؤسسين ان يكتتبون بأسهم الشركة خلال مدة الاككتاب, مبينا شرط ذلك.

مع تمنياتي لكم بالنجاح

رئيس القسم

أ.د. منتظر فاضل سعد

مدرس المادة

م.م ندى مهدي خلف

١٠٥



جامعة البصرة
كلية الادارة والاقتصاد / قسم العلوم المالية والمصرفية
اسئلة امتحان الكورس الأول
للعام الدراسي ٢٠٢٣-٢٠٢٤
المادة : جرائم البعث



التاريخ : ١٠ / ١٢ / ٢٠٢٤

المرحلة : الثانية

المادة : جرائم البعث

ملاحظة: الإجابة عن جميع أربعة أسئلة فقط

س ١ / ما هي أهم جرائم البيئة عددها ثم اشرح واحدة منها .

س ٢ / أجب بعلامة (صح) أو (خطأ) ثم صحح الخطأ أن وجد :


- ١- يمثل مفهوم الجريمة أي فعل ينتهك القانون ويعاقب عليه بواسطة النظام القانوني .
- ٢- تم تأهيل الشعب العراقي نفسياً واجتماعياً وفكرياً الى تقبل فكرة التدخل الخارجي .
- ٣- حدثت جريمة قصف حلبجة عام ١٩٨٨ .
- ٤- تمثل الجرائم الاجتماعية الأفعال والتصرفات التي تتعارض مع القيم والمعايير .
- ٥- ظهرت علوم فرعية دقيقة لدراسة الجريمة والمجرم، مثل: علم النفس الإجرامي، وعلم طبائع المجرم .


س ٣ / للجرائم النفسية آليات عديدة عدد هذه الجرائم ثم اشرح اثنان منها .


س ٤ / صور انتهاكات حقوق الإنسان وجرائم السلطة عديدة أذكر خمسة منها فقط .

س ٥ / إن الأفعال التي تم ارتكابها في إطار هجوم واسع النطاق هي جرائم ضد الإنسانية اشرح بالتفصيل ذلك .

مع تمنياتي لكم بالنجاح


أ.د. منتظر فاضل سعد
رئيس القسم


م.م. إسراء خيرى عبد
مدرس المادة


١٥ / ١٢ / ٢٠٢٤



جامعة البصرة

كلية الإدارة والاقتصاد

قسم العلوم المالية والمصرفية

الدراسات الصباحية والمسائية

المرحلة: الثانية

المادة: الإدارة المالية

التاريخ: 2024/1/14

الوقت: ساعتان

أسئلة امتحانات النهائية الكورس الأول الدور (الاول) للعام الدراسي 2023-2024

ملاحظة: الإجابة عن اربعة اسئلة فقط وبالقلم الجاف.

س1 / هنالك اربعة ادوار ومهام يقوم بها المدير المالي في الشركات المساهمة عددها مع الشرح المفصل.

س2/ توفرت لديك الميزانية العمومية لشركة الصفا الصناعية كما في 2022/12/31 (المبالغ بالآف الديناتير)

المطلوبات وحق الملكية	الموجودات
المطلوبات المتداولة 125000	النقدية 150000
القروض 375000	الحسابات المدينة 75000
اجمالي الديون 500000	المخزون 25000
الاسهم العادية 450000	مجموع الموجودات المتداولة 250000
الارباح المحتجزة 50000	الموجودات الثابتة 750000
مجموع المطلوبات وحق الملكية 1000000	مجموع الموجودات 1000000

المطلوب

- 1- نسبة السيولة السريعة
- 2- نسبة الرافعة المالية
- 3- ROA
- 4- EPS
- 5- معدل فترة التحصيل

معيار الصناعة

- نسبة السيولة السريعة 1.25 مره
- نسبة الرافعة المالية 45%
- ROA 12%
- EPS 5.5
- معدل فترة التحصيل 35 يوم

علماً أن صافي دخل الشركة 30000 دينار، وصافي المبيعات 90000 دينار

س3/ توفّر لديك كشف الدخل الخاص بشركة المروج الصناعية والمطلوب إجراء التحليل الأفقي.

2021	2020	المفردات
90000000	80000000	الايرادات (صافي المبيعات)
70000000	65000000	تطرح: تكلفة البضاعة المباعة
20000000	15000000	مجمّل الربح
		تطرح: نفقات التشغيل
400000	500000	البيعية
2600000	3000000	العامة والإدارية
1000000	1000000	اندثار الموجودات الثابتة
3000000	2500000	الايجار
13000000	8000000	EBIT
		تطرح: نفقات الفوائد
500000	250000	فوائد على اوراق الدفع
250000	1250000	فوائد على السندات
12250000	6500000	صافي الدخل قبل الضرائب
4165000	2210000	تطرح: ضريبة الدخل (34%)
8085000	4290000	صافي الدخل

س4/ توفرت لديك قائمة المركز المالي لشركة البصرة الصناعية والمطلوب اعداد كشف مصادر واستخدامات الامول
 علماً ان صافي دخل الشركة 13332 دينار والارباح الموزعة 5200 دينار.

2020	2019	البيان
5000	6000	النقدية
2000	2600	الاستثمارات القابلة للتداول
32000	24000	المدينون
41000	37400	المخزون
80000	70000	مجموع الموجودات المتداولة
120600	106400	اجمالي الموجودات الثابتة
36600	34400	الاتدثرات
84000	72000	صافي الموجودات الثابتة
164000	142000	مجموع الموجودات
14400	12000	حسابات دائنة
11000	14000	اوراق دفع
1800	1400	مستحقات
6000	6000	ديون طويلة الاجل مستحقة
2800	2400	مطلوبات متداولة اخرى
36000	35800	مجموع المطلوبات المتداولة
54000	60000	سندات
13000	10000	الاسهم العادية
27368	10700	فضلة رأس المال
33632	25500	الأرباح المحتجزة
162000	142000	مجموع المطلوبات وحق الملكية

- س5/ من المعلومات الاتية اكمل الميزانية العمومية التالية.
- 1- نسبة حق الملكية إلى مجموع الموجودات 40%، علماً ان حق الملكية 100000 دينار
 - 2- نسبة الحسابات الدائنة إلى مجموع المطلوبات 40%
 - 3- القروض طويلة الاجل = الحسابات الدائنة
 - 4- نسبة المستحقات إلى القروض طويلة الاجل 50%
 - 5- نسبة الموجودات الثابتة إلى مجموع الموجودات 50
 - 6- دوران الحسابات المدينة 10 مرة
 - 7- المخزون يشكل ضعف الحسابات المدينة
 - 8- دوران الحسابات المدينة 10 مرة
 - 9- علماً ان صافي المبيعات 600000 دينار

المطلوبات	الموجودات
الحسابات الدائنة	النقدية
المستحقات	الحسابات المدينة
قروض طويلة الاجل	المخزون
مجموع المطلوبات	مجموع الموجودات المتداولة
حق الملكية	الموجودات الثابتة
مجموع المطلوبات وحق الملكية	مجموع الموجودات

رئيس القسم
 أ.د. منتظر فاضل سعد

مع تمنياتي لكم بالتوفيق

مدرس المادة
 أ.م.د. محمد جاسم محمد

س. المهدي

المادة: الرياضيات المالية

المرحلة: الثانية

التاريخ: 8 / 1 / 2024

الوقت: ساعتين



وزارة التعليم العالي والبحث العلمي

جامعة البصرة

كلية الادارة والاقتصاد

قسم العلوم المالية والمصرفية

الدراسة الصباحية والمسائية

اسئلة الامتحان النهائي الكورس الاول (الدور الاول) للعام 2024/2023

$$t_1 = t - t^*$$

$$t_2 = 0$$

ملاحظة: الاجابة عن اربعة اسئلة فقط وتوزع الدرجات بالتساوي

س1 // يودع شخص مبلغ معين لدى مصرف في نهاية كل اربعة أشهر ولمدة عامين بمعدل

فائدة 12 % سنوياً، فاذا علمت ان رصيد الشخص في نهاية المدة كان 3300 دولار، فكم كان

يودع لدى المصرف؟

$$TP = (C \times n) \times r \times \frac{n}{2} \times (t_1 - t_2)$$

س2 // اقترض شخص مبلغ 4000 دولار بمعدل فائدة 6% سنوياً متعهداً بسداده مع فوائده

بعد عشرة أشهر لكنه لم يتمكن من تسديده في مواعده المحدد فتقدم بطلب تأجيل السداد إلى

نهاية العام فتحمل فوائد تأجيل بمعدل 9% سنوياً، ما هو المبلغ الواجب السداد في نهاية العام؟

س3 // ما هو رصيد شخص في 15 / 7 / 2020 إذا علمت انه في 23 / 9 / 2019 أودع مبلغ

6000 دولار لدى مصرف يعتمد معدل فائدة 7 % سنوياً وذلك بالاعتماد على الفائدة التجارية؟

س4 // يودع شخص مبلغ 500 دولار لدى مصرف في بداية كل ثلاثة أشهر ولمدة عامين

ونصف بمعدل فائدة 10 % سنوياً، فيما يسحب مبلغ 100 دولار في نهاية كل شهر ولمدة

عامين ونصف كذلك. ما هو رصيد هذا الشخص في نهاية المدة إذا علمت ان معدل الفائدة

للسحب 4 % سنوياً؟

س5 // استثمر شخص مبلغان مجموع فائدتها \$ 570 فإذا علمت ان المبلغ الاول ضعف

المبلغ الثاني وأنه أودع المبلغ الاول لمدة اربع سنوات بمعدل فائدة 6% سنوياً فيما أودع المبلغ

الثاني لمدة ثلاث سنوات ونصف بمعدل فائدة 8% سنوياً. جد مقدار كل من المبلغين وما هي

الفائدة المتحققة من كل مبلغ؟

مع تمنياتنا لكم بالنجاح والموفقية

أ.د. منتظر فاضل سعد

رئيس القسم

أ.م.د. عقيل عبد محمد عباس

مدرس المادة

م.م. عبدالله محمد راضي

مدرس المادة

أ.م.د. محمد

المرحلة : الثانية
المادة : الحاسبات
التاريخ : 13 / 11 / 2023
الوقت : ساعتين



جامعة البصرة
كلية الادارة والاقتصاد
قسم العلوم المالية والمصرفية
الدراسات الصباحية والمسائية

أسئلة الامتحان النهائي للعام الدراسي 2024/2023

الكورس الاول / الدور الاول

ملاحظة: الأجابة على خمسة أسئلة فقط (توزع الدرجة بالتساوي)

س1/ وضح المفاهيم والمصطلحات التالية:

1- نظام قواعد البيانات 2- عزل البيانات 3- الملفات العشوائية 4- المعلومات

س2/ أختَر الأجابة الصحيحة:

1- يتم من خلال لغة تعريف قواعد البيانات

➤ القيام بتعريف الجداول

➤ تعريف العلاقات بين الجداول

➤ تعريف الجداول الافتراضية

➤ جميع ما ذكر

2- نقصد بمفهوم معالجة قواعد البيانات هو

➤ استرجاع البيانات من قواعد البيانات

➤ اضافة البيانات الى قواعد البيانات

➤ حذف البيانات من قواعد البيانات

➤ جميع ما ذكر

3- من الأهداف التي وجدت من أجلها أنظمة قواعد البيانات

➤ عزل البيانات عن البرامج

➤ دعم المعالجة المتعددة للمستخدمين

➤ توفير الأمن والحماية للبيانات

➤ جميع ما ذكر

4- يقصد بتعريف قواعد البيانات

➤ تحديد أنواع البيانات

➤ تحديد العلاقات بين الملفات في تركيب قواعد البيانات

➤ محددات قواعد البيانات

➤ جميع ما ذكر

5- يقصد بالعمليات الاساسية

➤ استرجاع البيانات

➤ اختيار البيانات

➤ توزيع البيانات

➤ جميع ما ذكر

س3/ قارن بين أنظمة معالجة البيانات التقليدية وأنظمة قواعد البيانات من حيث:

➤ الوصول الى البيانات

➤ تمثيل البيانات لواقع المؤسسة

س4/ وضح الوظائف الاساسية لنظام معالجة البيانات

س5/ وضح مساوي استخدام أنظمة قواعد البيانات

س6/ ما هي الاسباب التي تؤدي الى تكرار البيانات في أنظمة معالجة البيانات التقليدية

مع تمنياتي لكم بالنجاح

أ.د. منتظر فاضل سعد
رئيس القسم

أ.م. حيدر صلاح هاشم
مدرس المادة

الس.س

جامعة البصرة

كلية الادارة والاقتصاد

قسم العلوم المالية والمصرفية

الدراسات الصباحية والمسائية



المرحلة: الثانية

المسادة: نقود ومصارف

التاريخ: ١٤ / ١ / 2024

الوقت: ساعتين

أسئلة الامتحان النهائي للكورس الأول (الأول) للعام الدراسي 2023 - 2024

الرقم

اسم الطالب

ملاحظة: الإجابة عن اربع أسئلة فقط وتوزع الدرجات بالتساوي بين الأسئلة

السؤال الأول: حدد اذا كانت العبارة صحيحة ام خاطئة ثم صحح الخطا ان وجد .

- 1- تستخدم النقود كأرصدة نقدية في المستقبل لمواجهة المرض والشيخوخة وفقدان العمل او توظيفها في سوق الأوراق المالية.
- 2- يستطيع البنك التجاري نقل الفائض من موارده النقدية الى البنك المركزي وذلك عندما يكون الإيداع اكبر من السحب.
- 3- تفرض البنوك التجارية على القروض الممنوحة لبنك اخر سعر فائدة موازي او اقل من سعر الفائدة المفروض من البنك المركزي.
- 4- يستطيع البنك المركزي من خلال الاحتياطي النقدي التحكم في سيولة البنوك التجارية وقدرتها الاقراضية ومن ثم التأثير في عرض النقد.
- 5- تتمتع الودائع الادخارية بسيولة عالية وذلك لامكانية السحب عليها عند الطلب بشكل مباشر او من خلال الصكوك.
- 6- القيمة النقدية للنقود المساعدة اقل من قيمة المعدن الذي صنعت منه.
- 7- يمكن التحكم في عرض النقد من خلال مراقبة السلطات النقدية للاساس النقدي M1.
- 8- يمكن استخدام النقود الورقية في إتمام عمليات البيع والشراء والدفع عبر الانترنت.

السؤال الثاني: اختر الإجابة الصحيحة من بين الخيارات .

- 1- اذا علمت ان حجم المعاملات في اقتصاد دولة نامية هو 48 مليار دولار وكمية النقد في التداول هو 172 مليار دولار ، في المقابل كان حجم المعاملات في اقتصاد دولة متقدمة هو 69 مليار دولار وكمية النقد في التداول تبلغ 328 مليار دولار . فان سرعة دوران المعاملات في الدولة النامية وسرعة دوران المعاملات في الدولة المتقدمة هي
أ- 3.5 مرات ، 4.7 مرات ب - 3 مرات ، 4.5 مرات ج - 4 مرات ، 3.7 مرات د- لا شيء مما ذكر
- 2- اذا علمت ان صافي العملة في التداول يبلغ 56 مليار دينار وان حجم الودائع الادخارية في البنوك التجارية يبلغ 14 مليار وكان حجم الودائع الجارية في البنوك التجارية 16 مليار واذا علمت ان الادخارات المودعة خارج البنوك التجارية تبلغ 8 مليار . فان $M2 =$
أ- 76 مليار ب - 86 مليار ج- 70 مليار د - لا شيء مما ذكر
- 3- ضمن نفس المعطيات في النقطة 2 فان مفهوم عرض النقد الضيق يساوي
أ - 72 مليار ب - 70 مليار ج - 86 مليار د- لا شيء مما سبق
- 4- اذا كان هناك بافتراض ان هناك مجتمع يعمل وفق نظام المقايضة ويبلغ عدد السلع المتاحة للتبادل 12 سلعة فان عدد الأسعار النسبية لجميع السلع التي يتم تبادلها في هذا المجتمع تكون : (أ- 120 سعر ب- 12 سعر ج- 1200 سعر د- لا شيء مما ذكر)
- 5- يقصد بأشباه النقود

أ- مجموعة من الأصول المالية الفاعلة للتحويل الى وسائل دفع بسرعة وسهولة

ب- نقود خاصة بالمصارف التجارية

ج- تمثل قيود محاسبية في سجلات المصارف التجارية

6- يمكن التحكم في عرض النقد من خلال مراقبة السلطات النقدية الى

ا- عرض النقد M1

ب- الأساس النقدي M0

ج- عرض النقد M3

7- من معايير تحديد درجة السيولة

ا- كلفة المعاملات

ب- كلفة الودائع

ج- كلفة الثروة

8- العلاقة بين سعر الفائدة والسندات (تفضيل السيولة) هي علاقة .

ا- طردية ب - عكسية ج - لا نهائية د- لا توجد علاقة .

السؤال الثالث : اجب عما يأتي :

1- اشرح بالتفصيل العوامل المؤثرة في سرعة دوران النقود

2- ما هي العلاقة بين النقود والسيولة ؟ وما هي العلاقة بين النقود والثروة ؟

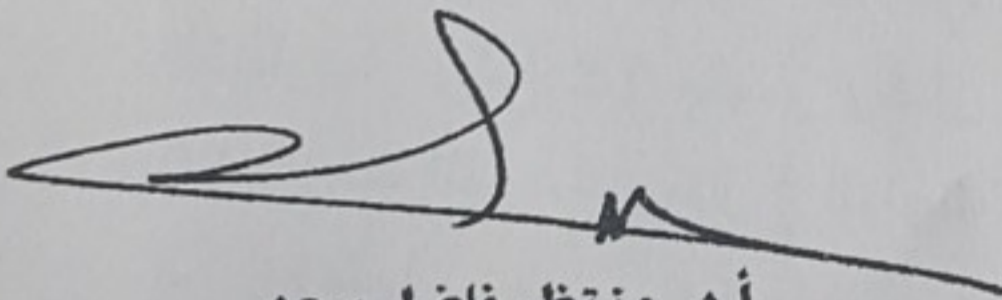
السؤال الرابع : تحدث بشكل مفصل عن الأنظمة النقدية التالية (نظام المقايضة - نظام المعدنين - نظام المعن الواحد - قاعدة النقد الورقي الالزامي) .

السؤال الخامس : اجب عما يأتي :

1- ما هو مفهوم المصرف التجاري ؟ وما هي وظائف المصرف التجاري ؟


2- حلل ميزانية المصرف التجاري من خلال جانبي الموجودات و المطلوبات

تمنياتنا لكم بالنجاح




أ.د. منتظر فاضل سعد

رئيس القسم



أ.م.د. راضي عبید نعيمش

مدرسا المادة



والله

المادة: المحاسبة التكاليف
المرحلة: الثالثة

التاريخ: 2023/12/27
الدور: الأول



أسئلة الامتحان النهائي للفصل الأول للعام الدراسي
2024/2023



جامعة البصرة
كلية الإدارة والاقتصاد
قسم العلوم المالية والمصرفية

ملاحظة: ١. الإجابة عن أربعة أسئلة فقط وتوزع الدرجات بالتساوي بين الأسئلة. لكل سؤال (12.5) درجة
٢. يحق للطالب الإجابة بالقلم الرصاص او القلم الجاف الأسود او الأزرق حصرا.

١. دعوه بصرف في المحاسبة

السؤال الأول: اجب عن ثلاث مما يأتي:

- 1) تمييز نظرية التكاليف الكلية بمجموعة من الميزات، اذكرها؟
- 2) وضح ثلاث من الخصائص التي يتميز بها القطاع المصرفي عن غيره من القطاعات.
- 3) ارسم دالة التكاليف الثابتة على المستويين الإجمالي وعلى مستوى الوحدة الواحدة. ووضح سلوك كلا المنحنيين.
- 4) علل العبارة الآتية ((ان كل التكاليف المباشرة تعتبر تكاليف متغيرة، الا ان كل التكاليف المتغيرة لا تعتبر تكاليف مباشرة))
- 5) ما هي المداخل التي تعتمد في تحديد كلفة الوحدة الواحدة. وضحها؟

السؤال الثاني: البيانات الآتية تخص أحد المصارف التجارية لشهر أيار ٢٠٢٠.

أولاً: الرواتب والأجور	رابعاً: المصروفات الأخرى
- رواتب الإدارة العامة للمصرف	م. الكهرباء 30000 (توزع بالتساوي بين الأقسام)
- رواتب قسم القروض.	300000
- رواتب مشرفي الأقسام الفنية.	اندثار الموجودات 48000
- رواتب قسم التسويق	تامين أمناء الصناديق. 30000
ثانياً: الفوائد والعمولات المدينة	الايجار 52000 (يوزع بالتساوي بين الأقسام)
ثالثاً: المواد	خامساً:
- مواد الصيانة	الفوائد والعمولات الدائنة 1740000
- قرطاسية قسمي الودائع والقروض.	40000 (35% ثابتة)
- قرطاسية ومواد مختلفة للإدارة	60000 (70% متغيرة)
- مواد دعاية وإعلان	32000
	44000

المطلوب: تبويب عناصر التكاليف تبويبا وظيفيا وحسب علاقتها بوحدة الخدمة المصرفية وحجم النشاط.

السؤال الثالث: الاتي بيانات التكاليف لاحد المصارف التجارية للفترة المنتهية في ٢٠٢٢/١٢/٣١ مبنوية حسب معايير محاسبة التكاليف.

أولاً: التكاليف الإنتاجية:

- التكاليف المباشرة: رواتب الأقسام الفنية (45000000)، فوائد وعمولات مدينة (77000000)، قرطاسية الأقسام الفنية

(18000000).

- التكاليف غير المباشرة:

- ت.غ.م. المتغيرة: أجور عمال الصيانة (800000)، مواد الصيانة (700000)، الكهرباء (600000).

- ت.غ.م. الثابتة: أجور عمال الصيانة (800000)، قرطاسية الأقسام الفنية (600000)، مواد الصيانة

(300000)، التامين (300000).

260000
300000
300000

ثانياً: التكاليف التسويقية:

- ت. التسويقية غير المباشرة المتغيرة: رواتب التسويق (800000)، الكهرباء (300000)، دعاية وإعلان (800000).
- ت. التسويقية غير المباشرة الثابتة: رواتب التسويق (1200000).

ثالثاً: التكاليف الإدارية:

- ت. الادارية غير المباشرة المتغيرة: الكهرباء (300000).
- ت. الادارية غير المباشرة الثابتة: رواتب الإدارة (2500000)، قرطاسية الإدارة (900000)، الاندثار (500000)، م. قانونية (600000)، ضرائب (400000).

رابعاً: القوائد والعمولات الدائنة (311340000)

المطلوب: اعداد كشف تكاليف الإنتاج وكشف الدخل للفترة المنتهية في ٢٠٢٢/١٢/٣١

السؤال الرابع: إذا علمت ان اجمالي التكاليف لمصرف البيان لشهر نيسان ٢٠٢٢ بلغت (200000000) دينار. وقد توفرت لديك المعلومات الآتية:

1. التكاليف الإنتاجية المباشرة تبلغ (47%) من اجمالي التكاليف.
2. التكاليف الإنتاجية غير المباشرة المتغيرة (16%) من اجمالي التكاليف.
3. التكاليف الإنتاجية غير المباشرة الثابتة (10%) من اجمالي التكاليف.
4. التكاليف التسويقية المتغيرة (10%) من اجمالي التكاليف.
5. التكاليف التسويقية الثابتة (5%) من اجمالي التكاليف.
6. التكاليف الادارية المتغيرة (2%) من اجمالي التكاليف.
7. التكاليف الادارية الثابتة (10%) من اجمالي التكاليف.
8. القوائد والعمولات الدائنة (230000000) دينار.

المطلوب: استخراج كلفة الخدمات المباعة وصافي الدخل في نهاية شهر نيسان ٢٠٢٢

السؤال الخامس: الاتي كشف يبين تكاليف أحد المصارف التجارية لشهر تشرين الأول ٢٠٢٠.

حجم النشاط	م ت م	اجمالي ت م	م ت ت	اجمالي ت ت	م ت ك	اجمالي ت ك
300	؟	؟	؟	؟	؟	8,100
400	؟	؟	؟	؟	؟	9,300
500	؟	؟	9	4,500	؟	؟

المطلوب: اكمال بيانات الكشف أعلاه مع ذكر كل المعادلات اللازمة لإكمال الكشف أعلاه

مع تمنياتنا لكم بالنجاح الباهر

رئيس القسم
ا.د. منتظر فاضل سعد

مدرس المادة
حسام احمد علي

2

التاريخ : 2023 / 12 / 30
المادة : نظم المعلومات المصرفية
الوقت : ساعتين



جامعة البصرة
كلية الإدارة والاقتصاد
قسم العلوم المالية والمصرفية



امتحان الكورس الأول
المرحلة الثالثة - الدور
2024 - 2023

ملاحظة : الإجابة عن خمسة أسئلة فقط

(10 درجات)

السؤال الأول :

شركة النور يبلغ فيها سعر البيع لأحد المنتجات 15 دولار وكانت التكلفة تقل بـ 20% عن سعر البيع وقد ثبت من الاحصائيات أن هناك ما نسبته 10% من الانتاج هو انتاج معيب، ويتم رده من قبل العملاء وتبلغ نفقات الاسترداد التي تتحملها الشركة 25% من تكلفة الانتاج. علما بان الانتاج الفصلي يبلغ 5000 وحدة وقد وجدت الشركة اسلوب لمعالجة هذه المشكلة من خلال انشاء نظام آلي لفحص الجودة ويقوم هذا النظام بتصنيف 6% من المنتجات الجيدة على انها منتجات معيبة (أي أن نسبة الوحدات التي يتم بيعها من الوحدات الجيدة 94%) وتبلغ تكلفة هذا النظام 500 دولار كل ستة اشهر.

المطلوب : حساب قيمة المعلومة وهل تنصح الشركة بشراء النظام ام لا ؟

(لكل فرع 5 درجات)

السؤال الثاني : اجب عن كلا الفرعين

أ - نظم المعلومات المصرفية تعتمد على ثلاث مستويات ادارية داخل المصرف اذكر هذه المستويات ثم بين ما يلي :
- طبيعة الأهداف التي تسعى لتحقيقها؟
- نوع المعلومات المستخدمة؟
- نوع الأنظمة التي تتلائم معها
ب - وضح ما المقصود بالترميز الكومبيوترى مع ذكر أهدافه وما هو افضل نوع من وجهة نظرك ؟

السؤال الثالث : ضع كلمة صح او خطأ مع تصحيح الخطأ ان وجد لكل مما يلي :

(لكل نقطة 2 درجة)

- 1- الاكتشاف والتقليل من اهم الطرق المستخدمة في حماية المعلومات المحاسبية من خلال توثيق الاتصال.
- 2- مستند الصرف هو احد عناصر المجموعة المستندية والهدف منه استلام المبالغ النقدية والشيكات .
- 3- Completeness من صفات المعلومات التي تقلل حالة عدم التأكد من خلال التنبؤ بما سيحدث فعلا.
- 4- عند حالة عدم التأكد التام من المعلومة يتم قياسها من خلال المقارنة بين المنفعة والتكلفة .
- 5- شركة Lawson من الشركات الرائدة في مجال ERP والتي توفر حلول للمؤسسات متوسطة الحجم.

(10 درجات)

السؤال الرابع : ما المقصود بـ (DFD) وما هي انواعه وما الغرض من استخدام كل نوع منها

(لكل فرع 5 درجات)

السؤال الخامس : اذكر الفرق لاثنين من المفاهيم التالية

- 1- الحسابات الحقيقية والحسابات الاسمية
- 2- امن المعلومات وسرية المعلومات
- 3- نظم المعلومات المصرفية (BIS) ونظم المعلومات المحاسبية (AIS)

(لكل نقطة 2 درجة)

السؤال السادس : اختر الإجابة الصحيحة لكل مما يلي :

- 1- احد الوظائف التالية تتحقق خلال مرحلة المدخلات وتتضمن عدة خطوات مثل التسجيل والتحقق
Control Data - Processing Data -
- لاشيء مما ذكر (اذكره)
- 2- اذا علمت ان سعر المنتجات \$1500 والربح المتحقق \$250 وكميات الإنتاج الشهري 1000 وحدة علماً ان نسبة الإنتاج الجيده 85% وكلفة الاسترداد تساوي الربح من سعر البيع لذا فإن المنفعة قبل تطبيق أي نظام ستكون :
\$357000 - (\$385000) -
- لاشيء مما ذكر (اذكره)
- 3- احد اهم العوامل الواجب مراعاتها عند وضع الترميز الكومبيوترى للبيانات المحاسبية لغرض مواجهة التطوير او التعديل يتمثل ب :
- المنفعة - الاتساق -
- لاشيء مما ذكر (اذكره)
- 4- اذا كانت قيمة المعلومة تعادل \$250 والمنفعة بعد القرار \$3250 فان المنفعة قبل القرار ستكون :
\$3252 - \$3250 -
- لاشيء مما ذكر (اذكره)
- 5- لمحدودية او قلة الأهمية للبيانات المحاسبية من وجهة مالك المشروع يبرر العمل على :-
- أساس الاستحقاق - الأساس النقدي -
- لاشيء مما ذكر (اذكره)

مع تمنياتنا لكم بالنجاح

رئيس القسم

أ.د. منتظر فاضل البطاط

مدرس المادة

م. احمد عبد الكريم الياسين

مد سامي الديراوي

س. السيد

المرحلة: الثالثة
المادة: محفظة استثمارية
التاريخ: ١٠ / ١٢ / 2023
الوقت: ساعتان



جامعة البصرة
كلية الادارة والاقتصاد
قسم العلوم المالية والمصرفية
الدراسات الصباحية والمسائية

أسئلة الامتحان النهائي الكورس الأول - الدور (الاول)
للعام الدراسي 2023-2024

الاسم الرقم الشعبة

ملاحظة: الاجابة عن خمسة أسئلة فقط (توزع الدرجات بالتساوي)

س١/ ينطلق مفهوم المحفظة الاستثمارية من طبيعة سلوك المستثمر وضح بالتفصيل اهم السياسات التي يتبعها المستثمر في المحفظة الاستثمارية .

س٢/ اذا توفرت لديك البيانات التالية الخاصة بمحفظتين ماليتين والسوق كما مبين في الجدول

السنة	محفظة 1	محفظة 2	السوق
2018	17	25	24
2019	23	18	14
2020	14	17	19
RF	6	6	6
انحراف معياري	6.9	6.5	6.2
معامل بيتا	0.5	0.6	1

مطلوب حساب مؤشر شارب وترينور لكل من محفظتين والسوق .

س٣/ اوضح أهمية تشكيل محفظة الاستثمارية

بقارن بين أفكار نظريات المحفظة الاستثمارية

س٤/ وضح بالتفصيل النماذج التي يتم الاعتماد عليها لتقييم أداء المحافظ الاستثمارية .

س٥/ بلغ معدل العائد السنوي على الورقة 1 خلال اربع سنوات (7,10,13,17) وعلى الورقة 2 خلال اربع سنوات (11,17,12,19) .

مطلوب حساب / 1- معامل اختلاف 2- مخاطر محفظة اذا علمت ان الاستثمار الكلي في المحفظة = 160 منها 75 مستثمرة في الورقة 1 ، 85 مستثمرة في الورقة 2 .

س ٦/ لدينا محفظتين استثماريتين A, B :

محفظة A تتكون من سهمين وكانت معلومات المتوفرة عنها :

السنة	2001	2002	2003	2004	2005
C	%9	%11	%13	%15	%17
D	%17	%15	%12	%11	%9

علما بان وزن موجود C يبلغ %40 والموجود الاخر D يبلغ %60

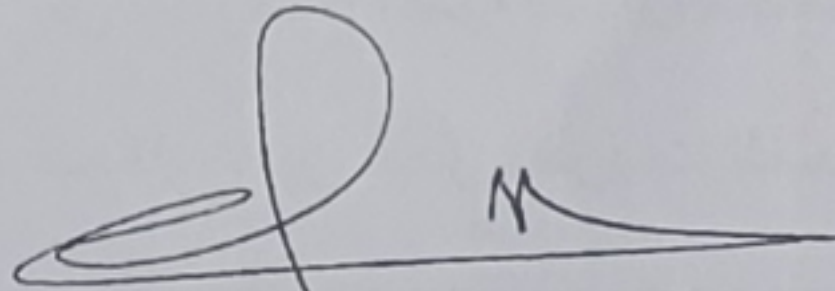
محفظة B تتكون من سهمين وكانت معلومات المتوفرة عنها :

السنة	2001	2002	2003	2004	2005
C	%8	%10	%12	%14	%16
D	%16	%14	%11	%10	%8


علما بان وزن C يبلغ %30 والموجود الاخر D يبلغ %70

المطلوب // ايهما ستختار من محفظتين A او B

تمنياتنا لكم بالنجاح



أ.د. منتظر فاضل سعد
رئيس القسم ومدرس المادة



م.م. عذراء جاسب عبادي
مدرس المادة



س. الهادي



أسئلة الامتحان النهائي / الفصل الاول / الدور ()

الاسم الرقم الشعبة

ملاحظة: الإجابة عن اربعة أسئلة فقط وتوزع الدرجة بالتساوي. وتكون الاجابه بالقلم الجاف حصرا.

س1- حدد ماهي الاستخدامات الرئيسية للمؤشرات في اسواق المال، وماهي تقسيمات تلك المؤشرات؟
س2: اذا كانت القيمة الاسمية للسهم 120 دينار وتكاليف الاصدار والمصروفات الاخرى 8% من قيمة السهم والارباح الموزعة لكل سهم كانت 4 دينار.
المطلوب// حساب كلفة اصدار السهم.

س3: تحاول احدى الشركات الحصول على قرض لمدة 15 سنة باصدار سندات بقيمة اسمية 95 دينار للسند الواحد وبمعدل فائدة سنوي 14%.

المطلوب// أ. حساب التكلفة التمويلية للسند في حالة اصداره بعلاوة 16%.

ب. حساب التكلفة التمويلية للسند في حالة اصداره بخصم خمسة دنانير.

س4: احسب القيمة الحقيقية للسهم في حالة النمو الصفري والنمو الثابت بمعدل 8% وحالة النمو المتعدد عندما يكون معدل نمو 25% لثلاث سنوات قادمة ومعدل نمو 7% في المستقبل، علما ان صافي الدخل 3500000 دينار وعدد الاسهم المتداولة 700 الف سهم والشركة وزعت ارباح بنسبة 40% ومعدل العائد المطلوب للشركة 20% علما بان معدل الفائدة للقيمة الحالية لمعدل عائد مطلوب 12% هو 0.725 للسنة الاولى و0.690 للسنة الثانية و 0.990 للسنة الثالثة.

س5: ضع العلامة المناسبة امام العبارات الاتية.

- 1- جاءت المشتقات بهدف المضاربة في اسواق المال.
- 2- تنوع الادوات المالية يضمن الفاعلية والتوسع في اسواق المال.
- 3- تعد اسواق المال اداة هامة لتقييم الشركات.
- 4- لا يعد السمسار ضامن لعمليات التداول.
- 5- لايمكن شمول البنوك المركزية ضمن فئة المستثمرون المؤسساتيون.
- 6- الحكومة كمشارك في اسواق المال تهدف فقط الى التحكم في معدلات التضخم.
- 7- السهم يمثل حق المساهم في راس مال جهة الاصدار.
- 8- توسع قاعدة توزيع الارباح تؤدي الى زيادة الارباح المحتجزة.

مع تمنياتي لكم بالنجاح

أ.د. منتظر فاضل سعد
رئيس القسم

أ.د. محمد

أ.د. احمد جاسم محمد
مدرس المادة



المادة: إدارة المصارف
المرحلة: الثالثة
التاريخ: ٨/٩ / 2023
الزمن: ساعتان

أسئلة الامتحان النهائي للكورس الأول
لعام الدراسي 2024/2023

جامعة البصرة
كلية الإدارة والاقتصاد
قسم العلوم المالية والمصرفية

ملاحظة : اجب عن اربع أسئلة ولكل سؤال 12,5 درجة

س1 : يعتبر البنك المركزي البنك الحكومي الذي يدير العمليات المالية للحكومة ويتولى عملية الإشراف والتوجه والرقابة على الجهاز المصرفي ومن خلالها يستطيع التأثير في سلوك المؤسسات المالية الأخرى بما يجعلها تتوافق مع السياسة الاقتصادية للدولة ؟ وضح ما يلي ؟ (12,5 درجة)

- أ- ما هي خصائص البنك المركزي ؟ عددها مع الشرح ؟
ب- ماذا يعني سياسة السوق المفتوح التي يعتمدها البنك المركزي مع المصارف ؟ وماهي أهدافها ؟ وضح مع الرسم إجراءاتها ونتائجها ؟

س2: اجب على ما يلي : (12,5 درجة) .

أ- يختلف المصرف عن منشآت الأعمال الأخرى من حيث خصائص عديدة تفرض على عمله طبيعة خاصة ؟ عددها مع الشرح ؟

ب- فسر العبارات التالية ؟

- 1- الاحتياطات الأولية .
- 2- المحفظة النقدية .
- 3- السياسة المتحفظة .
- 4- مصرف الحكومة .
- 5- إيرادات العمليات المصرفية .
- 6- محفظة الحسابات المتقابلة خارج الميزانية .

س3 : ظهرت البيانات التالية في سجلات مصرف الشرق الأوسط التجاري للأعوام 2020 و 2021 وكما يلي :
(12,5 درجة)

البيانات المالية 2021	البيانات المالية 2020	البيان
800000	700000	أجمالي الأصول
850000	800000	أجمالي الودائع
900000	900000	حق الملكية
400000	300000	الأرباح قبل الضرائب
15%	10%	الضريبة

المطلوب / تقييم وقياس ربحية مصرف الشرق الأوسط التجاري ؟

س4 : باعتبارك محلل مالي في مصرف بغداد التجاري وطلب منك إجراء التحليل الأفقي للبيانات المالية الخاصة بالميزانية العمومية للأعوام من 2020 إلى 2022 وكما يلي : (12,5 درجة)
محفظة الودائع (900 , 700 , 500) .

محفظة القروض الممنوحة (400 , 300 , 200)

محفظة حق الملكية (؟ , ؟ , ؟)

محفظة النقدية (900 , 800 , 600)

محفظة القروض المقترضة (300 , 250 , 150)

محفظة الأصول الثابتة (200 , 150 , 100)

محفظة الاستثمارات (350 , 250 , 200)


س5 : ظهرت البيانات المالية التالية في سجلات المصرف الأهلي التجاري في 2022/12/31 وكما يلي :
(المبالغ بالملايين) (12,5 درجة)

الودائع الثابتة 600000 دينار , القروض 350000 دينار , الودائع التوفير 750000 دينار , الودائع الجارية 900000 دينار , حق الملكية 150000 دينار . بنسب التالية :


الودائع الجارية (الاحتياطيات الأولية 70% , الاحتياطيات الثانوية 30%) , الودائع التوفير (الاحتياطيات الأولية 20% , الاحتياطيات الثانوية 40% , القروض والسلف ؟) , الودائع الثابتة (100% القروض والسلف) , القروض وحق الملكية (القروض والسلف 60% , الاستثمارات طويلة الأجل ؟) .

المطلوب : وضح مع الرسم أسلوب مخصص الأموال ؟


تمنياتي لكم بالنجاح




ا.د. منتظر فاضل سعد
رئيس القسم



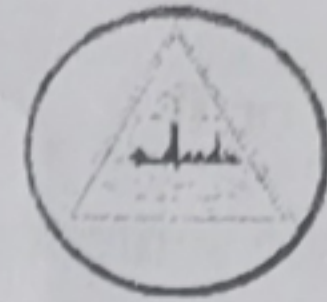
أ.د نعيم صباح جراح
مدرس المادة



أ.د احمد رسن البهادلي
مدرس المادة



ا.د الهادي



Date: 11 / 1 / 2024

Time: Two hours

Note: Answer (5) questions only

Each question carries 10 marks

Subject: English language

Class: 3 Final Exam

Q1/: Read the text. Use the *present verb* forms in **bold** to complete the chart.

Annie **paints** animals and wildlife. "I **paint** what I see around me", she told me, "Birds, animals, trees, and flowers. I **find** my work totally absorbing. I **work** outside in the open air for as long as it is light, from dawn until dusk- about 16 hours a day in summer, though less now because it's winter". His work **is becoming** increasingly popular, and she **is planning** to open gallery on the island. "At the moment **I am working** on a series of wild flowers. The Isle of Lohan is inhabited by 700 people who are employed mainly in the fishing. The population **is falling** because young people **are leaving** the island. The island **is being developed** as tourist destination.

Present continuous passive x1	Present continuous x5	Present simple active x4

Q2/: Match a verb in A with a word or phrase in B.

A	B
1- -----look up	a- your parents
2- ----- pick up	b- your coat
3- ----- take off	c- a word in a dictionary
4- ----- look after	d- the baby
5- ----- get on with	e- something you dropped

Q3/ A): Put the verbs in brackets in the *present simple passive*.

- 1- Street at works ----- (**associate**) with the risk of heart disease.
- 2- Open-plan offices ----- (**dislike**) by 40% of workers.
- 3- Team-bonding days ----- (**despise**) by nearly everyone.
- 4- 45% of work time ----- (**waste**) on chat, drinking tea and personal calls
- 5- 40% of Internet use in the office ----- (**not relate**) to work

B): Complete the following sentences (**Make Negatives**).

- 1- Mogi sells ice-cream in winter. She ----- any ice-cream in winter.
- 2- Ann's got a brother. She ----- got a brother. She's an only child!
- 3- The people on Lohan are employed in farming. They ----- employed in farming.
- 4- the trolly girls sit down. They ----- sit down.
- 5- people want beef or rice for breakfast. They-- ----- want beef or rice for breakfast.

Q4/ Answer A or B

A) Complete the sentences with one of the following words.

(costs, has, smell, polite, cheerful)

- 1- Petrol ----- over a pound a liter.
- 2- The Japanese have a reputation for being -----.
- 3- Jane's always happy and smiling. She's a ----- person.
- 4- You ----- nice. What perfume are you wearing.
- 5- Britain ----- a population of 60 million.

B): Is the verbs in **bold** used as an auxiliary verb (A) or a full verb (F)

- 1- -----**Have** you ever been to China?
- 2- -----They **have** three children.
- 3- ----- I **do** my homework every night.
- 4- ----- they **are** lovely children.
- 5- ----- I **was** at home.

Q5) Complete the sentences using the verb **between brackets** and the **tense given**.

1- past simple

- I ----- my daughter to the zoo yesterday. (take)

2- Past simple passive

- This photo of her ----- on holiday last year. (take)

3- Past continuous

- I ----- in Rome the week before last. (work)

4- Will future


- Next week I ----- in Madrid. (be)

5- Present perfect

- We ----- a big profit this year. (make)


Q6) Are the following **bold words** grammatically true (T) or false (F).

- 1- I **go** to Italy last year.
- 2- **How much** people were killed in the Second World War.
- 3- Jane is a **musical**.
- 4- Annie **don't** live in Irland. She lives in Scotland.
- 5- **When** was oil first discovered in Suadi Arabia?

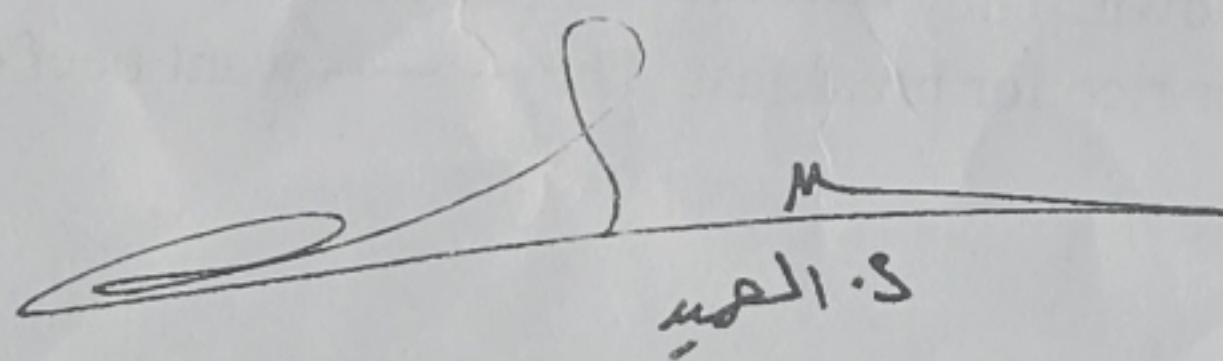

Dr. Muntather F. Saad

Head of the Department

GOOD LUCK


Dr. Hussein J. Kadhum

Instructor


س. الصبيح

المرحلة: الثالثة
المادة: بحوث عمليات
التاريخ: 14 / 1 / 2024
الوقت: ساعتان



جامعة البصرة
كلية الإدارة والاقتصاد
قسم العلوم المالية والمصرفية

أسئلة الامتحان النهائي للكورس الاول / الدور الاول العام الدراسي 2023 - 2024

ملاحظة: الاجابة عن اربع اسئلة فقط وتوزع الدرجة بالتساوي لكل سؤال (12.5 درجة) :
السؤال الاول: لنماذج البرمجة الخطية ثلاث اشكال ولكل شكل منها مميزات وصيغة رياضية خاصة به , وضع ابرز مميزات (خصائص) هذه الاشكال ؟

السؤال الثاني: حول نموذج البرمجة الخطية ادناه الى الصيغة القياسية ؟

$$\text{Min Cost} = 4X_1 + 5X_2$$

$$6X_1 - 8X_2 \geq 10 \Rightarrow 6X_1 - 8X_2 - S_1 = 10$$

$$-6X_1 + 8X_2 \leq 10 \Rightarrow -6X_1 + 8X_2 + S_2 = 10$$

S.to

$$2X_1 + X_2 = 20$$

$$X_1 + 3X_2 \leq 25$$

$$|6X_1 - 8X_2| \geq 10$$

$$X_1 + 3X_2 \leq |25|$$

$$X_1, X_2 \geq 0$$

السؤال الثالث: اذا توفر لديك النموذج الرياضي الاتي و الخاص بشركة القنديل المتخصصة في صناعة حقائب السفر .

$$\text{Max Profit} = 7X_1 + 2X_2$$

S.to

$$6X_1 + 2X_2 \leq 36$$

$$5X_1 + 5X_2 \leq 40$$

$$2X_1 + 4X_2 \leq 28$$

$$X_1, X_2 \geq 0$$

المطلوب /// ايجاد الحجم الامثل لإنتاج الشركة و الذي يحقق اقصى ارباح مستخدما الطريقة المبسطة
Simplex Method

السؤال الرابع : اجب عن العبارات الاتية بكلمة صح او خطأ :

1. ما يميز الشكل القانوني عن باقي اشكال نماذج البرمجة الخطية (العام و القياسي) هو ان داله الهدف في هذا الشكل تكون من نوع Max Profit حصرا . X

2. النقطة (3, 6) هي واحدة من النقاط الانتاجية الخاصة بشركة الربيع المتخصصة بصناعة المنتجات الزراعية , عند هذه النقطة تبلغ كلفة انتاج المنتج الاول \$ 3 ✓

3. في الطريقة المبسطة يتم تحديد المتغير الخارج من الحل من خلال قسمة قيم Right hand side (الجانب الايمن من القيد) على قيم المتغير الداخل للحل . ✓

4. في الطريقة البيانية تكون منطقة الحلول المثلى عند الحديث عن الارباح في المنطقة السفلى القريبة من نقطة الاصل . ✓

5. في الصيغة القياسية يتم تحويل القيود من معادلة الى متباينة من خلال اضافة او طرح متغيرات وهمية بعدد قيود النموذج . X

6. تكون دالة الهدف في النماذج الرياضية من نوع Min Cost وذلك عند الحديث عن الكلف الانتاجية . ✓

السؤال الخامس : شركة الفيحاء المتخصصة في صناعة الابواب تقوم بإنتاج نوعان , حيث يكلف انتاج وحدة واحدة من النوع الاول 10 دولار و النوع الثاني 5 دولار , ويمر انتاج بثلاث مراحل انتاجية هي (A , B , C) على الترتيب , ففي المرحلة A تملك الشركة ما لا يقل عن 26 ساعة عمل ويحتاج كلا النوعين الى ساعتان عمل , اما في المرحلة الانتاجية B تمتلك شركة الفيحاء ما لا يقل عن 80 ساعة عمل ويحتاج النوع الاول الى 4 ساعات عمل اما النوع الثاني فيحتاج الى 8 ساعات عمل , وبالحديث عن المرحلة الانتاجية الأخيرة ففيها تمتلك الشركة فقط 75 ساعة عمل ويحتاج النوع الاول الى 5 ساعات عمل اما النوع الثاني يحتاج الى 3 ساعة عمل ..

المطلوب // ايجاد النقاط الانتاجية لشركة الفيحاء مستخدما الطريقة البيانية ؟

$$\min \text{ cost} = 10x_1 + 5x_2$$

$$4x_1 + 4x_2 \geq 26 \quad A$$

$$4x_1 + 8x_2 \geq 80 \quad B$$

$$5x_1 + 3x_2 = 75 \quad C$$

$$x_1, x_2 \geq 0$$

تمنياتنا لكم بالنجاح والتوفيق

أ.د. منتظر فاضل سعد

رئيس القسم

م.م. حسن حيدر عبدالكريم

مدرس المادة

س. الفهم



ملاحظة: الاجابة على اربعة اسئلة فقط ، تقسم الدرجة بتساوي ، احسن الخط والاجابة والترتيب

س1/ اجب عن احد الفرعين الآتيين:

1. عرف المحاسبة الادارية، موضحا في جدول اهم اوجه الشبة والاختلاف بينها وبين المحاسبة المالية؟
2. وضح العبارة التالية (مفهوم تكاليف مختلفة لأغراض مختلفة يمثل العامل الاساس للمحاسبة الادارية) .

س2/ اختر الاجابة الصحيحة من بين عدة اختيارات (مع ذكر خطوات الحل) : (الاجابة عن 6 نقاط)

1. اذا كانت نقطة التعادل بالوحدات (1000) وحدة وحجم المبيعات بالوحدات (1400) وحدة وعائد المساهمة للوحدة 3000 دينار، فإن صافي الدخل يساوي:
أ. 300,000 دينار. ب. 4,200,000 دينار ج. 7,200,000 دينار. د. 1,200,000 دينار
2. سعر بيع الوحدة 1000 دينار والتكلفة المتغيرة للوحدة 60% والتكاليف الثابتة 10,000,000 دينار، فإن نقطة التعادل بالمبالغ تساوي:
أ. 75,000,000 دينار . ب. 100,000,000 دينار. ج. 25,000,000 دينار. د. 50,000,000 دينار.
3. اذا كانت نسبة هامش الامان 30% وحجم المبيعات الفعلي 16000 وحدة ، فإن نقطة التعادل بالوحدات تساوي:
أ. 11,200 وحدة. ب. 6000 وحدة. ج. 4,800 وحدة. د. 4000 وحدة.
4. سعر بيع الوحدة 2000 دينار، والتكلفة المتغيرة للوحدة 80% ، فإن عائد المساهمة للوحدة يساوي:
أ. 1000 دينار. ب. 400 دينار. ج. 800 دينار. د. 500 دينار.
5. اذا كانت نسبة عائد المساهمة 30% ، ونسبة هامش الامان 40% ، فإن نسبة صافي الربح هي:
أ. 35% ب. 70% ج. 12% د. 47%.
6. سعر بيع الوحدة 2000 دينار ، ونسبة عائد المساهمة 40%، فإن التكلفة المتغيرة للوحدة تساوي:
أ. 1200 دينار. ب. 400 دينار. ج. 1000 دينار. د. 800 دينار.
7. سعر بيع الوحدة 1000 دينار والتكلفة المتغيرة للوحدة 500 دينار والتكلفة الثابتة 5,000,000 دينار، والوحدات المباعة 12000 وحدة ، فإن هامش الامان بالوحدات يساوي:
أ. 1000 وحدة . ب. 2000 وحدة . ج. 500 وحدة . د. صفر .

س3/ قدم اليك كشف الدخل لشركة البصرة التجارية يضم بيانات وتكاليف احد المنتجات وكما يلي:

البيان	مستوى النشاط (9000) وحدة
المبيعات	1,350,000
تطرح التكاليف المتغيرة	(810,000)
عائد المساهمة	540,000
تطرح التكاليف الثابتة	(600,000)
صافي الدخل	(60,000)

- المطلوب / 1. كم عدد الوحدات الاضافية التي على الشركة بيعها لتخلص من الخسارة الحالية.
2. ما مقدار الانخفاض بالخسارة الحالية اذا حققت الشركة مبيعات اضافية قدرها 750 وحدة (عزز اجابتك بكشف الدخل).
3. كم ستكون الخسارة الحالية للشركة اذا حققت مبيعات اضافية قدرها (135,000) دينار.
4. ما هو مستوى النشاط بالوحدات والمبالغ الذي تبدأ بعده الشركة بتحقيق الارباح.

س4/ إذا كانت نسبة عائد المساهمة لمنتج شركة بغداد الصناعية 35%، والتكاليف الثابتة للفترة 2,100,000 دينار. وصافي الربح الحالي للشركة 350,000 دينار. ولغرض تحسين أرباح الشركة الحالية طلب مجلس الإدارة من مديري التسويق والإنتاج تقديم مقترحاتهما بهذا الخصوص، وكانت كما يلي:-

مقترح مدير التسويق: تخفيض سعر البيع مما سيؤدي إلى تغيير نسبة عائد المساهمة بمقدار 5%، وذلك سيؤدي إلى زيادة مستوى النشاط بنسبة 20% عن المستوى الحالي، إلا إن هنالك حاجة لزيادة التكاليف الثابتة بنسبة إلى 2,150,000 دينار.

مقترح مدير الإنتاج: اعتماد سياسة إنتاجية جديدة تقلل من الكلفة متغيرة مما يؤدي إلى تغيير نسبة عائد المساهمة إلى 38%، وتخفض مستوى النشاط بمقدار 500,000 دينار، إلا إن ذلك يتطلب زيادة التكاليف الثابتة بنسبة 1%. وبصفتك المحاسب الإداري لهذه الشركة طلب منك مجلس الإدارة تقييم المقترحات المقدمة في ضوء الوضع الحالي.

س5/ اكمل الارقام الناقصة في كل الحالات التالية، مع العلم ان كل حالة مستقلة عن الاخرى: (مع ذكر خطوات الحل)

الحالة	الوحدات المباعة	قيمة المبيعات	التكاليف المتغيرة	عائد المساهمة للوحدة	التكاليف الثابتة	صافي الدخل
1	15000	180000	120000	50000
2	100000	10	32000	8000
3	10000	70000	13	12000
4	6000	300000	100000	8000

أ.د. منتظر فاضل سعد
رئيس القسم

مع التمنيات لكم بالموفقية والنجاح

م.بال.الوفيق نجم

مدرستا المادة

د. شروق خلف لطيف

المادة: معايير مصرفية

المرحلة: الرابعة

التاريخ: ٢٠٢٣/١٥/٢٨

الوقت: ساعتان



وزارة التعليم العالي والبحث العلمي

جامعة البصرة

كلية الادارة والاقتصاد

قسم العلوم المالية والمصرفية

الدراسة الصباحية والمسائية

اسئلة الامتحان النهائي الكورس الاول (الدور الاول) للعام ٢٠٢٣/٢٠٢٤

ملاحظة: الاجابة عن اربع اسئلة فقط وتكون الاجابة بالقلم الجاف حصراً: وتوزع لدرجات بالتساوي

س١ / عرف مايلي

٣. القوائم المالية ذات الهدف العام

٢. حقوق الاقلية

١. التقاص

٦. الشركة القايزة

٥. اسهم الخزانة

٤. المعيار محاسبياً

س٢ / في ضوء دراستك للمعيار المحاسبي (IAS 1) أجب عن النقاط التالية:

١. يتوجب على المنشأة الاتساق في عرض وتصنيف بنود القوائم المالية لكن يمكن الخروج عن الاتساق في حالتين اذكرهما بالتفصيل؟

٢. يتطلب المعيار المحاسبي الدولي رقم (١) تصنيف الموجودات الى متداولة عندما ينطبق عليه عدة حالات اذكرها بالتفصيل؟

س٣ / يتطلب المعيار المحاسبي (IAS 1) افصاحات معينة في صلب القوائم المالية وافصاحات اخرى في الملاحق لذا يجب ان تحتوي كل قائمة من القوائم الرئيسية على عدة معلومات وضحاها؟

س٤ / عرف القوائم المالية؟ ووضح ماهو التوقيت المناسب لنشر القوائم المالية؟

س٥ / ماهي الاسباب التي تقف وراء الاهتمام بالمحاسبة الدولية؟

ا.د منتظر فاضل سعد

رئيس القسم

م.م زينب عبدالعزيز عبدالله

مدرس المادة

د. الهادي

م.م مرتضى عبد الحسين عبد الكريم

مدرس المادة

المرحلة : الرابعة
المادة : المصارف الاسلامية
التاريخ : ٢١ / ١٢ / 2023
الوقت : ساعتان



جامعة البصرة
كلية الادارة والاقتصاد
قسم العلوم المالية والمصرفية
الدراسات الصباحية والمسائية

أسئلة الامتحان النهائي / الفصل الاول / الدور (الأول)

الاسم الرقم الشعبة

ملاحظة: الإجابة عن خمسة أسئلة فقط وتوزع الدرجة بالتساوي. وتكون الاجابه بالقلم الجاف حصرا.

س1- وضح بالتفصيل اهم الاجهزة المكونة لهيئة الرقابة الشرعية؟

س2: ما هي اهم الاختلافات الرئيسية بين المصارف التقليدية والمصارف الاسلامية، وضحها بالتفصيل؟

س3: أ. من صيغ التمويل بالمصارف الاسلامية هو الاستصناع، وضح بالتفصيل مع ذكر شروط صحة العقد؟

ب. عرف التمويل بالاجارة والاجارة المنتهية بالتمليك وماهي شروط صحة العقد؟

س4: وضح بالتفصيل اهم الاسباب التي ادت الى انفجار الازمة المالية العالمية عام 2008؟

س5: ما هي اهم اوجه النشاط الاساسية والثانوية لعمل المصارف الاسلامية؟

س6: ما هي اهم اهداف الرقابة الخارجية، وضحها بالتفصيل؟

أ.د. منتظر فاضل سعد
رئيس القسم

مع تمنياتي لكم بالنجاح

أ.م.فايزة حسن مسجت
مدرس المادة

د. العميد



اسئلة الامتحان النهائي الكورس الاول (الدورة حل) للعام الدراسي ٢٠٢٣/٢٠٢٤

اسم الطالب..... الشعبة..... والرقم.....

ملاحظة : الاجابة على خمسة اسئلة فقط ، وتوزع الدرجات بالتساوي.

س ١: كما هي افتراضات نموذج الانحدار الخطي المتعدد؟

س ٢: عرف حد الخطأ العشوائي؟ وما هي صيغته؟ ولماذا يتم اضافته الى معادلة الانحدار الخطي؟

س ٣: اكتب الصيغ الاحصائية المستخدمة في تقدير الاتي :

أ- تباين المعالم المقدرة وكذلك حد الخطأ في نموذج الانحدار الخطي البسيط؟

ب- الخطأ المعياري (الانحراف المعياري) للمعالم المقدرة وحد الخطأ العشوائي في نموذج الانحدار الخطي البسيط؟

س ٤: لديك البيانات التالية :

n	1	2	3	4	5
Yi	1	4	2	3	5
Xi	2	4	7	5	7

R

استخرج : أ- معامل الارتباط الخطي البسيط؟ ب- معامل التحديد؟

س ٥: اذا كانت نتائج تقدير معادلة الانحدار الخطي المتعدد على الشكل التالي :

$$\hat{Y}_t = 6.26 - 0.38X_1 + 0.45X_2$$

$$R^2 = 0.6935, n = 15$$

س ٦

المطلوب : أ- اختبار المعنوية الاجمالية للنموذج علما ان F الجدولية تساوي (3.88) ؟

ب- معامل التحديد المتعدد المعدل (المصحح)؟ مع التعليق على النتيجة؟

س ٦: لديك البيانات التالية : ٤

$$\hat{R}^2 = \frac{R^2}{1 - R^2/n - k}$$

n	1	2	3	4	5
Yi	1	4	5	6	9
Xi	5	7	8	9	11

استخرج معلمي الميل والمقطع ؟

أ.د. منتظر فاضل سعد
رئيس القسم

م.د. طالب حسن
مدرس المادة

م.د. طالب هاشم
مدرس المادة

المرحلة : الرابعة
المادة : اخلاقيات البحث العلمي
التاريخ : ٨ / ١ / ٢٠٢٤
الوقت : ساعتان



كلية الادارة والاقتصاد
قسم العلوم المالية والمصرفية
الدراسة الصباحية والمسائية

اسئلة الامتحان النهائي (الكورس الاول) الدور (الأول) للعام الدراسي ٢٠٢٣ - ٢٠٢٤

ملاحظة : الإجابة عن خمسة أسئلة فقط ، وتوزع الدرجات بالتساوي

- س١ / املئ الفراغات بما يناسبها من عبارات
- ١- من اهم أنواع تصنيف الاستبيان هي ----- و ----- و -----
 - ٢- تقسم البحوث حسب الغرض منها الى ----- و -----
 - ٣- من الخطوات الهامة لعملية البحث العلمي ----- و ----- و -----
 - ٤- تتضمن أسئلة المقابلة عدة أنواع منها ----- و ----- و -----
 - ٥- تتضمن قائمة المصادر كافة المصادر المستخدمة في البحث يتم ترتيبها ابجدياً وفقاً لنوع المصدر الى ----- و ----- و -----

- س٢ / ضع علامة صح او خطأ امام العبارات التالية مع تصحيح الخطأ
١. اذا كان المصدر في متن البحث يحتوي على اكثر من مؤلف يشار اليه اعتماداً على الطريقة الحديثة بالشكل الآتي (البدران وآخرون، ٢٠١٢، ٩٩)
 ٢. من سمات البحوث الوصفية انها تتضمن الفروض السببية.
 ٣. لا تعتبر التجهيزات والمعدات ضرورية لأجراء البحوث التطبيقية
 ٤. تصاغ المشكلة بعبارة لفظية تقديرية او بصيغه سؤال أو اكثر
 ٥. من بين الاعتبارات التي يجب مراعاتها في كتابه البحث هو ان توضع الكلمات الاساسية في العنوان

- س٣ / اختر الاجابة الصحيحة لكل مما يأتي
١. للبحث العلمي خصائص تميزه عن غيره من الكتابات والتقارير والتأليف من أهمها
أ - الحركية والتجديد ب- المنهجية ج- القراءة النافذة للبحث
 ٢. البحوث التي تصف وتسجل الاحداث والوقائع التي جرت وتمت في الماضي هي
أ- البحوث النظرية ب - بحوث تشخيصية ج- بحوث تاريخية
 ٣. من مصادر الحصول على مشكله البحث
أ- التصنيف ب - برامج الدراسات العليا ج - وضع خطة زمنية
 ٤. تركز المنهجية او الطريقة على
أ- نموذج الدراسة ب - العينة ج- النتائج
 ٥. تتضمن قائمة المصادر
أ- منهجية البحث ب- نتائج الدراسة ج- وقائع المؤتمرات

س ٤ / تتنوع ادوات ووسائل الحصول على البيانات والمعلومات للبحوث حسب نوع البحث والهدف منه .
المطلوب :/

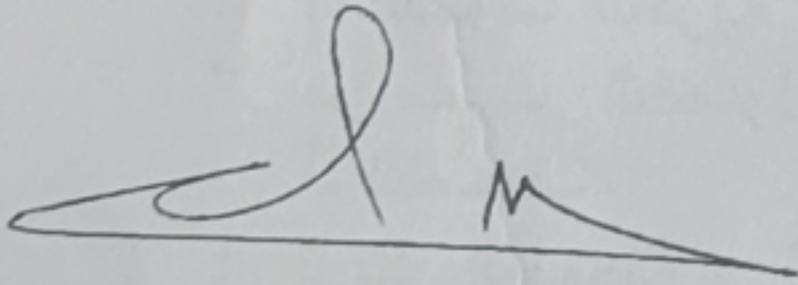
- ١- ما المقصود بـ اداة البحث ؟
- ٢- عدد ادوات ووسائل جمع البيانات والمعلومات .
- ٣- ماهو مفهوم دراسة الحالة ؟ وماذا تتطلب دراسة الحالة ان يتوفر فيها ؟ عددها
- ٤- اذكر خطوات دراسة الحالة ؟

س ٥ / ان البحوث العلمية على انواع ، منها البحوث الاجتماعية . المطلوب :
أ- اذكر مقارنة (الفرق بين الدراسات الاستطلاعية والوصفية والتشخيصية)

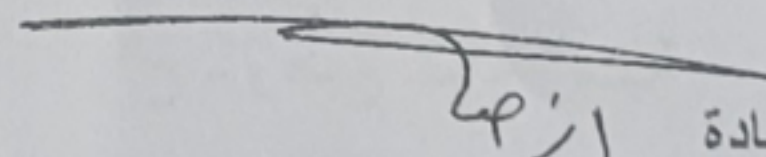
ب- الفصل الثاني من البحث سوف يكون الاطار النظري ويحوي على اعتبارات يجب على الباحث مراعاتها في جميع خطوات البحث . فما هي تلك الاعتبارات ؟ وضحها بالتفصيل

س ٦ / لكل كتاب او مقال او بحث اكايمي عنوان ، والمطلوب :

- أ- ما المقصود ب عنوان البحث ؟
- ب- هناك اعتبارات يجب على الباحث مراعاتها عند كتابة عنوان البحث ، فما هي تلك الاعتبارات ؟
وضحها
- ت- اعط مثال توضيحي لعنوان بحثك للتخرج مع تصميم لواجهة عنوان بحثك للتخرج




رئيس القسم
أ. د. منتظر فاضل البطاط



مدرستا المادة
م. د. أزهار عبد اللطيف حسين



م. د. سهام غالي حمود



د. العميد

المادة : عمليات مصرفية
المرحلة : الرابعة
التاريخ : ٨ / ٨ / 2024
الزمن : ساعتان



أسئلة الامتحان النهائي
الفصل الاول 2023 / 2024
الدور (الأول)

جامعة البصرة
كلية الإدارة والاقتصاد
قسم العلوم المالية والمصرفية
الدراسة الصباحية والمسائية

ملاحظة: الإجابة عن خمسة أسئلة فقط. « توزع الدرجات بالتساوي »

السؤال الأول: اختيار الإجابة الصحيحة .

- 1- الحساب الذي لا يمكن للزبون السحب أو الإيداع فيه قبل تاريخ استحقاقه , هو: أ- حساب التوفير ب- الحساب الجاري المدين ج- حساب الإيداع الثابت .
- 2- الاعتماد المستندي القابل للإلغاء يمنح امتيازات : أ- للمستورد ب- للمصدر ج- للمصرف فاتح الاعتماد
- 3- خطاب الضمان على المكشوف: أ- مغطى بغطاء عيني ب- غير مغطى ج- مغطى بغطاء نقدي .
- 4- عند ثقة المصدر والبنك المراسل بالمصرف فاتح الاعتماد يتم اختيار الاعتماد: أ- غير المعزز ب- المعزز ج- القابل للإلغاء .
- 5- يطلق على القائمة التي تقيّد بها المعاملات المتبادلة بين العميل والمصرف: أ- حساب ب- وديعة ج- كلاهما صحيح
- 6- الائتمان التعهدي يطلق على: أ- الاعتماد المستندي ب- الاعتماد البسيط ج- خطاب الضمان.
- 7- خطاب الضمان الاجنبي يكون المصرف الضامن: أ- اجنبي والمستفيد محلي ب- محلي والمستفيد اجنبي ج- كلاهما صحيح .
- 8- العملية المصرفية التي يعتبر فيها حامل مستندات الشحن مالكا للبضاعة هي: أ- الاعتماد المستندي ب- خطاب الضمان ج- الصك.
- 9- تدفع قيمته بالأجل بموجب كمبيالات يسحبها المصدر على المستورد : أ- الودائع لأجل ب- الاعتماد لأجل ج- كلاهما صحيح .
- 10- الشخص الذي يكون في كفالة المصرف الضامن هو: أ- الأمر ب- المستفيد ج- المصرف المراسل .

السؤال الثاني: صحح ما تحته خط (إذا لم يكن صحيحاً) .

- 1- يتم استثمار مبلغ معين بالودائع الثابتة لمرة واحدة ولمدة معينة.
- 2- إن الهدف من الحساب الجاري هو الاستثمار الآمن .
- 3- يوجد عدد من السياسات تلزم بها البنوك لاكتساب ثقة المتعاملين وتنمية معاملاتها .
- 4- عرف قانون التجارة العراقي خطاب الضمان بأنه التزام خطي من قبل البنك بدفع مبلغ نقدي بناء على طلب الأمر لفائدة طرف آخر يسمى المستفيد .
- 5- من اهداف صاحب حساب التوفير الحصول على التسهيلات والخدمات المصرفية .

6- الودائع الثابتة هي مبالغ مودعة لدى المصارف من قبل أشخاص خلال مدة محددة وبنسب فائدة ثابتة .

7- يجوز قبول الإيداعات في حساب التوفير بدون تقديم دفتر التوفير .

8- مبدأ حسن المعاملة يعني عدم إذاعة أسرار الزبائن .

9- خطاب الضمان الصادر من مصرف عراقي بناء على طلب عراقي لصالح مستفيد في الصين يسمى خطاب ضمان محلي .

10- من العمليات المصرفية التقليدية تحويل المبالغ عبر نظام SWIF .

السؤال الثالث: الإجابة عما يأتي:

أ- عدد و اشرح أنواع الاعتمادات المستندية . ب- لماذا سمي الاعتماد المستندي مستندياً ؟

السؤال الرابع: الإجابة عن فرعين فقط :

أ- عدد و اشرح حالات غلق حساب التوفير .

ب- عدد الحالات التي يطلب فيها المصرف كفيلا لإصدار خطاب الضمان .

ج- عدد و اشرح المبادئ التي تحكم العمل المصرفي .

السؤال الخامس: إذا كان لدى السيد أحمد حساب توفير في مصرف الرافدين , وكانت حركة حسابه خلال سنة 2023 كما في الجدول , علماً أن سعر الفائدة الممنوح من قبل المصرف هو 6% , احسب مبلغ الفائدة المستحق للسيد أحمد والرصيد عند نهاية السنة التقويمية .

التاريخ	الحركة	منه	له	الرصيد دينار
5/20	إيداع		100000	100000
7/10	إيداع		50000	150000
9/13	سحب	50000		100000
11/14	إيداع		100000	200000
12/15	سحب	25000		175000


السؤال السادس: الإجابة عن فرعين فقط :


أ- الحساب الجاري نوعان, ما الفرق بينهما؟ وما الفرق بين السحب على المكشوف وخطاب ضمان على المكشوف؟


ب- ناقش العبارة " لقد استخدم البعض عبارة الحساب الجاري، وبعضهم الآخر استخدم عبارة الوديعة "

ج- ما الفرق بين أنواع الودائع الثابتة ؟ ولماذا سميت الودائع الثابتة بهذا الاسم؟

نرجوا لكم التفوق .


أ.د. منتظر فاضل سعد



أ.م.د. علي قاسم العقبي


م.م. سارة عباس

رئيس القسم

مدرس المادة

مدرسة المادة


أ.س. الهير